



Worksheets Of All SLO's

- ★ PRACTICE TESTS
- ★ TAB QUESTIONS S.N.C

تعلیمی سال کے لئے

مکمل SLOs

All

version

LND

2023-24

URDU


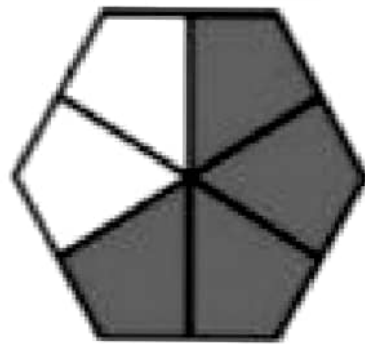
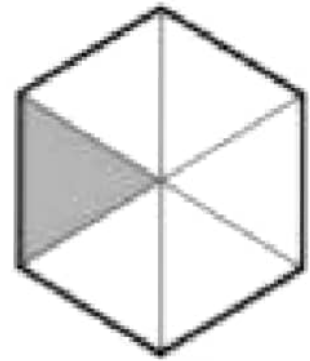
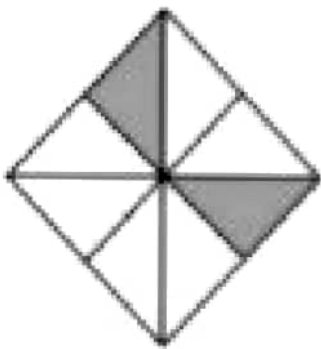
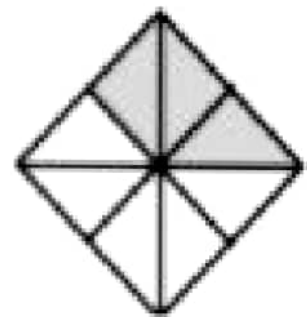
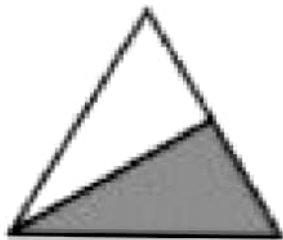
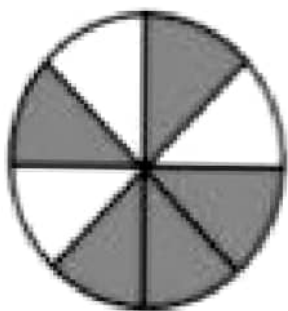
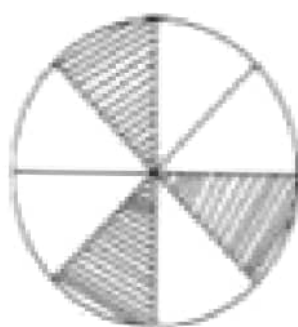
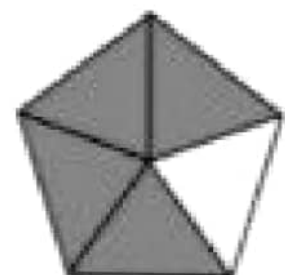
ENGLISH

MATH




Writer:
M.TARIQ ABASI
0304
5495204

رنگ دار حصہ کی کسر بتائیں

 $1/5$ $2/5$ $3/5$  $4/6$ $2/6$ $4/2$  $1/5$ $2/5$ $1/6$  $2/6$ $2/8$ $6/8$  $1/5$ $3/4$ $1/4$  $3/8$ $5/8$ $3/5$  $1/2$ $2/2$ $1/1$  $1/4$ $1/5$ $4/5$  $1/4$ $2/4$ $2/2$  $3/8$ $5/8$ $3/5$  $3/8$ $5/8$ $3/5$  $1/5$ $4/5$ $4/1$

Identify simple words (one two three syllable) with correct spellings.

تصویر کے مطابق درست سہیگ
والے لفظ کی نگارہی کریں



Glass

Glasses

Glaas

تصویر کے مطابق درست سہیگ
والے لفظ کی نگارہی کریں



Parit

Parrit

Parrot

تصویر کے مطابق درست سہیگ
والے لفظ کی نگارہی کریں



Queen

Quin

Kueen

تصویر کے مطابق درست سہیگ
والے لفظ کی نگارہی کریں



Kyng

Keng

King

تصویر کے مطابق درست سہیگ
والے لفظ کی نگارہی کریں



Chiar

Chair

Chaire

تصویر کے مطابق درست سہیگ
والے لفظ کی نگارہی کریں



Bag

Bayg

Baig

تصویر کے مطابق درست سہیگ
والے لفظ کی نگارہی کریں



Table

Tayble

Tabl

تصویر کے مطابق درست سہیگ
والے لفظ کی نگارہی کریں



Rate

Rait

Rat

تصویر کے مطابق درست سہیگ
والے لفظ کی نگارہی کریں



Mosquito

Mosquito

Mosquitoo

تصویر کے مطابق درست سہیگ
والے لفظ کی نگارہی کریں



Cumpoter

Compoter

Computer

Identify and articulate correct action word according to the pictures

The boy is



- Speaking Shouting Jumping

The boy is



- Reading Listening Speaking

The boy is



- Talking Seeing Washing

The boy is



- Praying Smiling Bathing

The boy is



- Singing Reading Bathing

The boy is



- Talking Seeing Jumping

The boy is



- Weeping Laughing Smiling

The baby is



- Singing Reading Playing

The boy is



- Praying Sleeping Playing

The boy is



- Sitting Standing Walking

SVO

انگلیش کے جملوں میں ترتیب کے لئے یاد رکھیں

S = Subject = قائل = کام کرنے والا

V = Verb = فعل = کام

O = Object = جس چیز پر کام ہو یا جس چیز پر کام اثر ہو = مفعول

Carpenter makes table.

S ——— V ——— O

Identify Correct Sentences.

i	Amna walks.	walks Amna.	Amna to be.
ii	is reading She.	reading She is.	She is reading.
iii	playing She is.	She playing is.	She is playing.
iv	drinks Cat milk.	Cat drinks milk.	milk Cat drink.
v	reads He book.	book reads He.	He reads book.
vi	Dog eats meat.	meat eats Dog.	Dog meat eats.
vii	are you How?	you are How?	How are you?
viii	raining It is.	It is raining.	raining is it.
ix	Baby crying is.	crying Baby is.	Baby is crying.
x	He teaches English.	He English teaches.	English He teaches.

الفاظ متضاد

ہر لفظ کا ایک مطلب ہوتا ہے اور جب ایک اور لفظ اسی لفظ کے مطلب، معنی کو الٹ ظاہر کرے تو وہ لفظ اس کا متضاد ہوتا ہے
مثلاً: جس بندے کے پاس دولت زیادہ ہوتی ہے اسے امیر کہتے ہیں جبکہ جس کے پاس بے روزگاری ہے اسے غریب کہتے ہیں
"امیر" کا متضاد "غریب" ہے۔

اسی طرح پڑھے لکھے کو عالم کہتے ہیں اور جس کو پڑھنا لکھنا نہ آئے اسے جاہل کہتے ہیں
"عالم" کا متضاد "جاہل" ہے۔

الفاظ	متضاد	الفاظ	متضاد	الفاظ	متضاد
نیکی	بدی	دوکاندار	گاہک	پسندیدہ	نہ پسندیدہ
غلامی	آزادی	گرم	سرد	مختی	مختی
صبح	غلط	عمی	خوشی	صغیر	صغیر
مغرب	مشرق	طلوع	غروب	ستا	ستا
فلک	زمین	طول	عرض	تاکمل	تاکمل
مش	قمر	عالم	جاہل	حیات	حیات
کافر	مسلمان	عرب	عم	خاص	خاص
پھول	کانٹا	عریض	طویل	فرش	فرش
کٹھن	سہل	قانی	باقی	زوال	زوال
کچا	پکا	غریب	امیر	حاضر	حاضر
زیادہ	کم	غلام	آزاد	کھوٹا	کھوٹا
بیٹھا	کھٹا	کشادہ	تنگ	سختی	سختی



Two _____

Bed

Beds

Bedes



Four _____

Bag

Bags

Ba ges



Six _____

Peachs

Peaches

Peach



Nine _____

Watch

Wat chs

Watches



Three _____

Shirt

Shirts

Shirtes




Two _____

Shoe

Shoees

Shoes




Four _____

Trucks

Truckes

Truck




Five _____

Dress

Dresses

Dresss



Two _____

Bus

Buses

Buss



Three _____

Bench

Benchs

Benches

Articulate and identify words containing digraphs in initial, middle and final position

Identify the ending sound of the picture ear....."



ch wh th

Identify the beginning Sound of the pictureistle"



ch wh th

Identify the beginning sound of the pictureildren"



ch wh th

Identify the beginning Sound of the pictureair"



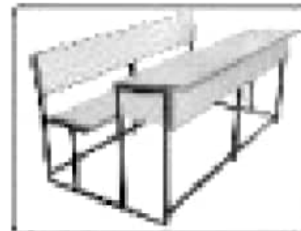
ch wh th

Identify the beginning Sound of the pictureimney"



ch wh th

Identify the ending Sound of the picture Ben....."




ch wh th

Identify the ending Sound of the picture lun....."



ch wh th

Identify the ending Sound of the picture starfi....."



ch sh th

Identify the beginning Sound of the pictureermometer"



ch wh th

Identify The beginning Sound Of The Pictureark"



ch wh sh













Digraph

A combination of two letters representing one sound, as in ph and ch.

جب پوسٹ مین آپ کو بکس دے گا تو اس وقت
آپ سے بکس کی قیمت رسیو کرے گا



تصاویر گن کر جنت طاق کا انتخاب کریں

					
طاق	جنت	طاق	جنت	طاق	جنت
					
طاق	جنت	طاق	جنت	طاق	جنت
					
طاق	جنت	طاق	جنت	طاق	جنت
					
طاق	جنت	طاق	جنت	طاق	جنت

Urdu

توڑ کے جوڑ لکھیں

2-گ-م			1-ج-ب-ی		
م	م	م	چا	چا	چا
4-ب-س			3-م-ل-ل		
س	س	س	م	م	م
6-پھ-ول			5-ک-ن		
پھل	پھل	پھول	کان	کن	کنک
8-د-ر-خ-ت			7-س-ب		
درخت	درخت	درخت	س	ب	س
10-ل-م-ی-ر			9-بھ-ے-ن-س		
امیر	مرا	میرا	سنا	بھانس	بھینس
12-ج-ل			11-ن-ر-م		
لا	چال	اجل	نرم	نارم	نرم
14-گ-ر-م			13-ر-و-ٹ-ی		
رگم	گرمی	گرم	رائی	ٹوری	ٹوٹی
16-گھ-ٹ			15-ش-ی-ش-ہ		
گھٹ	گھاٹ	ٹھگ	سوش	سیش	شیشہ

ایس ایل او: جوڑ کے صحیح توڑ پر نشان لگائیں۔

خوشی	خ-و-ش-ی	خ-ا-و-ش-ی	خ-ش-ی
بھوکی	ب-و-ک-ہ	بھ-و-ک-ی	ب-ہ-ک-ی
درخت	د-ر-خ	د-ر-خ-ط	د-ر-خ-ت
شکاری	ش-ک-ا-ر-ی	ش-ک-ر-ی	ش-ی-ک-ر-ی
پتھر	پ-ت-ر	پ-ت-ھ-ر	پ-ت-ر-ھ
صبح	ص-ب-ح	ص-ب-و-ح	ص-ب-ا-ح
پانی	پ-و-ن-ی	پ-ی-ن-ی	پ-ا-ن-ی
استعمال	ا-س-ت-ع-م-ا-ل	ا-س-ط-م-ا-ل	ا-س-ت-م-ا-ل
حصہ	ح-س-ہ	ح-ص-ہ	ح-ص-ا
چاند	چ-ا-ن	چ-ا-ن-و	چ-ی-ن-ا-و
عید	ع-ی-و	ع-ا-و	ع-ا-ی-و
مہندی	م-ہ-ن-و-ی	م-ی-ن-و-ی	م-ا-ن-و-ی

Identify and articulate correct action word according to the pictures

The boy is



Swimming

Sleeping

Bathing

The boy is



Laughing

Weeping

Playing

The man is



Bathing

Catching

Sitting

The boy is



Talking

Helping

Reading

The woman is



Opening

Closing

Sitting

The boy is



Opening

Closing

Pushing

The man is



Opening

Pulling

Pushing

The man is



Opening

Pulling

Pushing

The boys are



Meeting

Fighting

Greeting

The boy is



Sitting

Standing

Walking

فاطمہ نے آنسو کریم کھائی			علی نے بیج بویا		
کھائی	آنسو کریم	فاطمہ	علی	بیج	بویا
شہباز نے غلط لکھا			میں مدینہ جاؤں گا		
لکھا	غلط	شہباز	جاؤں	میں	مدینہ
ابو میر کو جاتے ہیں			امی کھانا پکاتی ہیں		
ابو	میر	جاتے	امی	کھانا	پکاتی
عامر نے غریب کو کھانا کھلایا			کاشف اچھا کھیلتا ہے		
عامر	کھلایا	کھانا	کھیلتا	کاشف	اچھا
شہزاد نے پھول توڑا			ارباب نے آم کا پودا لگایا		
پھول	شہزاد	توڑا	لگایا	پودا	ارباب
گلوکار حامد نے گانا گایا			جادوگر نے جادو دکھایا		
گانا	گلوکار	گایا	جادو	جادوگر	دکھایا
امی نے دودھ اُبالا			مالی نے پودوں کو تراشا		
اُبالا	امی	دودھ	تراشا	مالی	پودوں
شیر کو دیکھ کر بچہ چلایا			پیرے نے سانپ کو پکڑا		
چلایا	دیکھا	شیر	پکڑا	سانپ	پیرے
عرفان نے بیج جیتا			مرغی نے اٹھا دیا		
جیتا	عرفان	بیج	دیا	اٹھا	مرغی

اسد فقیر نے صبح میں نماز پڑھی ہے۔ اس کا نام اسد ہے۔ اس کا مشغول صبح ہے۔ اس کا قائل اسد ہے۔
 حال: پلنگہ کھاتا ہے۔ پلنگہ کھانے والا ہے۔ اس کا مشغول کھانا ہے۔ اس کا قائل پلنگہ ہے۔
 پادے کی پاد پھینک کر کھاتا ہے۔ پادے کھانے والا ہے۔ اس کا مشغول کھانا ہے۔ اس کا قائل پادے ہے۔
 انگریزوں نے ملک کو سنبھالا ہے۔ انگریزوں کے سنبھالنے والا ہے۔ اس کا مشغول سنبھالنا ہے۔ اس کا قائل انگریزوں ہے۔
 قائل (کے نام پر) مشغول (کے نام پر) فعل (موضوع)

درست ترتیب کے جملے کی نشاندہی کریں

اسلم کھائے گا	✓	سیب اسلم کھائے گا		اسلم کھائے گا سیب	
لمی چوہا پکڑتی ہے		پکڑتی ہے لمی چوہا		لمی پکڑتی ہے چوہا	
کامران امتحان دیتا ہے		امتحان کامران دیتا ہے		کامران دیتا ہے امتحان	
عاطف کھلونا توڑتا ہے		عاطف توڑتا ہے کھلونا		عاطف کھلونا ہے توڑتا	
اجمل نماز پڑھتا ہے		اجمل پڑھتا ہے نماز		اجمل نماز پڑھتا ہے	
عامر قلم خریدتا ہے		قلم عامر خریدتا ہے		عامر خریدتا ہے قلم	
انس کتاب پڑھتا ہے		انس پڑھتا ہے کتاب		انس کتاب ہے پڑھتا	
اسد فقیر کو کھانا دیتا ہے		کھانا اسد فقیر کو دیتا ہے		اسد فقیر کو کھانا دیتا ہے	
لگاتا ہے مالی پودا		مالی پودا لگاتا ہے		مالی پودا لگاتا ہے	
رانی پانی پیتی ہے		پانی رانی پیتی ہے		رانی پیتی ہے پانی	
رکھتا ہے عاصم روزہ		عاصم روزہ رکھتا ہے		عاصم رکھتا ہے روزہ	
فوجی سرحد پر جاگتا ہے		جاگتا سرحد پر فوجی ہے		فوجی سرحد پر جاگتا ہے	
کسان بچا لیتا ہے		بچا کسان لیتا ہے		کسان بچا ہے لیتا	

Identify and articulate correct action word according to the pictures

The boy is



The girl is



Running Jumping Walking

Catching Throwing Talking

The girl is



The boy is



Jumping Throwing Skipping

Sitting Praying Reading

The boy is




The boy is



Writing Reading Learning

Writing Reading Speaking

The boy is



The man is



Eating Pushing Driving

Driving Running Riding

The boy is



The boy is



Seeing Watching Writing

Swimming Running Riding

اہم معنی الفاظ: ایسے الفاظ جن کے معنی ایک جیسے ہوں۔ جیسے (روحانی ساجد) (معلم مدرس) SLO

خبر کا ہم معنی لفظ ہے۔

اطلاع اخبار خبریں

بلند کا ہم معنی لفظ ہے۔

بلندی اونچا نیچے

والد کا ہم معنی لفظ ہے۔

ابا والدہ بچا

ہمت کا ہم معنی لفظ ہے۔

بلند حوصلہ عزم

سردار کا ہم معنی لفظ ہے۔

رشتہ دار دوست آقا

راہبر کا ہم معنی لفظ ہے۔

راست راہنما منزل

آدمی کا ہم معنی لفظ ہے۔

عورت انسان شیر

اداس کا ہم معنی لفظ ہے۔

فکین اداسیاں خوش

لوگر کا ہم معنی لفظ ہے۔

خوش مالی ملازم

بے وقوف کا ہم معنی لفظ ہے۔

دانا نادان اچھا

اجالا کا ہم معنی لفظ ہے۔

تاریکی روشنی اجالے

حق کا ہم معنی لفظ ہے۔

حقوق حقیقت سچ

راضی کا ہم معنی لفظ ہے۔

رضا ناراض خوش

الفت کا ہم معنی لفظ ہے۔

خوشی لغت محبت

ابتدا کا ہم معنی لفظ ہے۔

شروع آخر ختم

الیت کا ہم معنی لفظ ہے۔

خوشی تکلیف راحت

آب کا ہم معنی لفظ ہے۔

دودھ لسی پانی

گھٹن کا ہم معنی لفظ ہے۔

باغ پھول کانٹے

ملاقات کا ہم معنی لفظ ہے۔

راحت قوت نگران

برسات کا ہم معنی لفظ ہے۔

پھاڑ پانی پارل

The cat is _____ the table.



Onto

behind

on

The cat is _____ the table.



over

beside

front

The rabbit jumps _____ the box.




in

into

over

The cat is _____ the table.



under

over

in

The baby jumps _____ pool.



behind

in

into

The lunch box is _____ the table.



into

on

front

The lion is _____ the bush.



front

under

behind

The boy is _____ the chair.




in

on

over

The dog is in _____ of gate.



front

behind

on

Boy is _____ the table.



in

over

on



شکل کی پہچان کریں

مثلث

مستطیل

مربع



شکل کی پہچان کریں

مثلث

مربع

مستطیل



شکل کی پہچان کریں

مستطیل

دائرہ



شکل کی پہچان کریں

دائرہ

مربع

نصف دائرہ



شکل کی پہچان کریں

مربع

مثلث

نصف دائرہ



شکل کی پہچان کریں

نصف دائرہ

دائرہ

مثلث




شکل کی پہچان کریں

مستطیل

نصف دائرہ

مربع



شکل کی پہچان کریں

مثلث

مکعب

دائرہ



شکل کی پہچان کریں

مستطیل

مربع

مثلث



شکل کی پہچان کریں

مثلث

مستطیل

مربع

Identify simple words (one/two/three syllable) with correct spellings.

Correct spelling
of _____



Bed

Bat

Bad

Correct spelling
of _____



Monkay

Monkey

Mankey

Correct spelling
of _____



Ornage

Ornege

Orange

Correct spelling
of _____



Shoe

Shoes

Shoos

Correct spelling
of _____



Ship

Shep

Sheep

Correct spelling
of _____




Lomone

Lemon

Lemman

Correct spelling
of _____



Nest

Next

Nect

Correct spelling
of _____



Ven

Van

Vaan

Correct spelling
of _____



Dal

Dol

Doll

Correct spelling
of _____




Goot

Gote

Goat

ALMOST MEA TAB QUESTIONS

Version 1-12



روزمرہ زندگی میں دو ہندسی اعداد کی ایک ہندسی عدد سے تقسیم SLO

<p>(ii) احمد کے پاس 27 گیندیں ہیں۔ وہ ان گیندوں کو برابر مقدار میں 3 خانوں میں رکھتا ہے۔ تو ان میں ہر خانے میں کتنی گیندیں ہوں گی؟</p>	<p>(i) احمد کے پاس 18 بنیاں ہیں۔ وہ انہیں کو دو سہیلیوں میں برابر تقسیم کرتی ہے۔ ہر سہیلی کو کتنی بنیاں ملیں گی؟</p>						
<table border="1" style="width: 100%; border-collapse: collapse;"> <tr> <td style="width: 33%; padding: 5px;">11</td> <td style="width: 33%; padding: 5px;">10</td> <td style="width: 33%; padding: 5px;">9</td> </tr> </table>	11	10	9	<table border="1" style="width: 100%; border-collapse: collapse;"> <tr> <td style="width: 33%; padding: 5px;">9</td> <td style="width: 33%; padding: 5px;">8</td> <td style="width: 33%; padding: 5px;">10</td> </tr> </table>	9	8	10
11	10	9					
9	8	10					
<p>(iv) ایک دکان میں 24 غبارے ہیں۔ 3 بچوں کو برابر مقدار میں کتنے کتنے غبارے ملیں گے؟</p>	<p>(iii) استاد صاحب کے پاس 30 بنسلیں ہیں۔ وہ ان بنسلیوں کو 5 طلباء میں برابر تقسیم کرتے ہیں۔ ہر طالب علم کو کتنی بنسلیں ملیں گی؟</p>						
<table border="1" style="width: 100%; border-collapse: collapse;"> <tr> <td style="width: 33%; padding: 5px;">8</td> <td style="width: 33%; padding: 5px;">7</td> <td style="width: 33%; padding: 5px;">6</td> </tr> </table>	8	7	6	<table border="1" style="width: 100%; border-collapse: collapse;"> <tr> <td style="width: 33%; padding: 5px;">6</td> <td style="width: 33%; padding: 5px;">4</td> <td style="width: 33%; padding: 5px;">3</td> </tr> </table>	6	4	3
8	7	6					
6	4	3					
<p>(vi) احمد نے سائیکل پر 20 کلومیٹر کا سفر 4 گھنٹے میں طے کیا۔ احمد نے ایک گھنٹے میں کتنا سفر طے کیا؟</p>	<p>(v) ابو نے بیٹوں کا چیک لائے جس میں 24 بنیاں ہیں۔ ابو نے 4 بچوں میں برابر بنیاں تقسیم کیں۔ ہر بچے کو کتنی بنیاں ملیں گی؟</p>						
<table border="1" style="width: 100%; border-collapse: collapse;"> <tr> <td style="width: 33%; padding: 5px;">6</td> <td style="width: 33%; padding: 5px;">5</td> <td style="width: 33%; padding: 5px;">4</td> </tr> </table>	6	5	4	<table border="1" style="width: 100%; border-collapse: collapse;"> <tr> <td style="width: 33%; padding: 5px;">7</td> <td style="width: 33%; padding: 5px;">6</td> <td style="width: 33%; padding: 5px;">5</td> </tr> </table>	7	6	5
6	5	4					
7	6	5					
<p>(viii) ایک ہوٹل میں 32 کرسیاں ہیں۔ اگر ہر میز کے پاس 4 کرسیاں رکھیں تو کتنی میزیں دیکھا جائے گی؟</p>	<p>(vii) عالیہ کے پاس 80 کڑ پینسل ہیں۔ وہ 10 کڑ پینسل ایک باکس میں رکھتی ہے۔ عالیہ کو کتنے باکس دیکھا جائے گا؟</p>						
<table border="1" style="width: 100%; border-collapse: collapse;"> <tr> <td style="width: 33%; padding: 5px;">8</td> <td style="width: 33%; padding: 5px;">7</td> <td style="width: 33%; padding: 5px;">6</td> </tr> </table>	8	7	6	<table border="1" style="width: 100%; border-collapse: collapse;"> <tr> <td style="width: 33%; padding: 5px;">10</td> <td style="width: 33%; padding: 5px;">9</td> <td style="width: 33%; padding: 5px;">8</td> </tr> </table>	10	9	8
8	7	6					
10	9	8					
<p>(ix) ذیشان کے پاس 40 روپے ہیں۔ وہ ان پیسوں کو اپنے دو بھائیوں میں برابر بانٹ دیتا ہے۔ ہر بھائی کو کتنے روپے ملے؟</p>	<p>(ix) ایک ہال میں 6 بچوں کی سالگرہ پارٹی میں ایک کے 18 گلوے ہیں۔ ہر بچے کو کتنے گلوے ملیں گے؟</p>						
<table border="1" style="width: 100%; border-collapse: collapse;"> <tr> <td style="width: 33%; padding: 5px;">30</td> <td style="width: 33%; padding: 5px;">20</td> <td style="width: 33%; padding: 5px;">10</td> </tr> </table>	30	20	10	<table border="1" style="width: 100%; border-collapse: collapse;"> <tr> <td style="width: 33%; padding: 5px;">5</td> <td style="width: 33%; padding: 5px;">4</td> <td style="width: 33%; padding: 5px;">3</td> </tr> </table>	5	4	3
30	20	10					
5	4	3					

Identify and articulate correct action word according to the pictures

The boy is



The boy is



- Speaking Shouting Jumping

- Reading Listening Speaking

The boy is



The boy is



- Talking Seeing Washing

- Praying Smiling Bathing

The boy is



The boy is



- Singing Reading Bathing

- Talking Seeing Jumping

The boy is



The baby is



- Weeping Laughing Smiling

- Singing Reading Playing

The boy is



The boy is



- Praying Sleeping Playing

- Sitting Standing Walking

سادہ جملے اور ان پر مبنی عبارت کو پڑھ کر سمجھ سکتے۔

مقدم	من	کہاں	آپ کے بوساں ہیں اس سال انہوں نے کدو کی فصل کاشت کی۔ آپ کے بونے کوئی فصل کاشت کی؟
80	5	70	لاہر کی ماوی کی عمر 70 سال ہے۔ وہ کادھت نماز پڑھتی ہیں۔ لاہر کی ماوی کئی مروجہ نماز پڑھتی ہیں؟
کا	یلا	سلیو	زمین نے نئی سائیکل خریدی۔ سائیکل کارنگ کالا ہے۔ زمین کی سائیکل کارنگ کیا ہے؟
مریض	ہسپتال	ڈاکٹر	باسط کے امیڈا اکثر ہیں۔ وہ ہسپتال جاتے ہیں۔ مریضوں کا علاج کرتے ہیں۔ باسط کے امیڈا کیا ہیں؟
فٹ بال	پندرہ	کرکٹ	سلیم کرکٹ بال پندرہ ہے۔ وہ سزاد فٹ بال کھیلتا ہے۔ سلیم سزاد کیا کھیلتا ہے؟
جان	اد	ای	ای ڈاکٹر ماری ہیں۔ ای اخبار پڑھتے ہیں۔ ای اخبار کون پڑھتا ہے؟
سکول	لاہر	چٹا گھر	حسن لاہر میں پڑھتا ہے۔ وہ چٹا گھر کی سر کرتا ہے۔ حسن سر کے لیے کہاں جاتا ہے؟
چالیس	کسان	گاریں	شیراز ایک کسان ہے اس کے پاس چالیس جانور ہیں۔ شیراز کے پاس کتنے جانور ہیں؟
80	5	70	لاہر کی ماوی کی عمر 70 سال ہے۔ وہ کادھت نماز پڑھتی ہیں۔ لاہر کی ماوی کئی مروجہ نماز پڑھتی ہیں؟
کا	یلا	سلیو	زمین نے نئی سائیکل خریدی۔ سائیکل کارنگ کالا ہے۔ زمین کی سائیکل کارنگ کیا ہے؟
مریض	ہسپتال	ڈاکٹر	باسط کے امیڈا اکثر ہیں۔ وہ ہسپتال جاتے ہیں۔ مریضوں کا علاج کرتے ہیں۔ باسط کے امیڈا کیا ہیں؟
فٹ بال	پندرہ	کرکٹ	سلیم کرکٹ بال پندرہ ہے۔ وہ سزاد فٹ بال کھیلتا ہے۔ سلیم سزاد کیا کھیلتا ہے؟
جان	اد	ای	ای ڈاکٹر ماری ہیں۔ ای اخبار پڑھتے ہیں۔ ای اخبار کون پڑھتا ہے؟
سکول	لاہر	چٹا گھر	حسن لاہر میں پڑھتا ہے۔ وہ چٹا گھر کی سر کرتا ہے۔ حسن سر کے لیے کہاں جاتا ہے؟
چالیس	کسان	گاریں	شیراز ایک کسان ہے اس کے پاس چالیس جانور ہیں۔ شیراز کے پاس کتنے جانور ہیں؟
سلیو	یار	لی	بیرے لی ہے۔ اس کا نام ہانو ہے اس کا رنگ سفید ہے۔ لی کا کیا نام ہے؟

Articulate And Identify Words Containing trigraphs In Initial, Middle And Final Position

Identify the beginning
Sound of the picture
.....ine "



ear **sch** **shr**

Identify the ending
Sound of the picture
f..... "



sch **tch** **shr**

Identify the ending
Sound of the picture
sf..... "




sch **shr** **tch**

Identify The beginning
Sound Of The Picture
.....aw "



sch **tch** **str**

Identify the ending
Sound of the picture
bri..... "



igh **dge** **tio**

Identify The ending
Sound Of The Picture
nat..... "



ure **are** **air**

Identify the middle
Sound of the picture
b.....d "



ear **sch** **shr**

Identify the middle
Sound of the picture
d.....y "



ure **are** **air**

Identify the beginning
Sound of the picture
.....ool "



ear **sch** **shr**

Identify the ending
Sound of the picture
pi..... "



sch **shr** **tch**

گھڑی دیکھ کر گھنٹوں اور منٹ میں وقت لکھنا

کلاک دیکھ کر وقت
بتائے (Time)



09:45

02:55

9:05

کلاک دیکھ کر وقت
بتائے (Time)



06:40

08:20

05:50

کلاک دیکھ کر وقت
بتائے (Time)



12:45

12:30

09:35

کلاک دیکھ کر وقت
بتائے (Time)



10:30

08:50

09:30

کلاک دیکھ کر وقت
بتائے (Time)



08:50

05:45

9:25

کلاک دیکھ کر وقت
بتائے (Time)




12:45

05:30

02:45

کلاک دیکھ کر وقت
بتائے (Time)



09:15

11:35

05:25

کلاک دیکھ کر وقت
بتائے (Time)



9:10

12:35

12:45

کلاک دیکھ کر وقت
بتائے (Time)



05:15

03:00

9:00

کلاک دیکھ کر وقت
بتائے (Time)



07:30

10:55

9:05

Identify the correct mark.

The sky is blue ____			How are you ____		
?	!	.	!	?	.
Am I fine ____			This is my book ____		
!	?	.	!	.	?
Oh ____ That is good.			What is your name ____		
?	.	!	!	?	.
Get out ____			May you live long ____		
?	!	.	?	!	.
Is this a book ____			I drink milk ____		
?	!	.	?	!	.
This is a dog ____			Alas ____ He is no more.		
!	.	?	!	?	.
Why are you weeping ____			It is raining ____		
?	.	!	.	!	?
Hurrah ____ We have won.			Who are you ____		
.	?	!	!	.	?
The boy is laughing ____			What are you doing?		
.	!	?	?	.	!

Identify the sentence with correct capitalization.

where do you live?	Where do you live?	Where DO You live?
She is a girl.	She Is A Girl.	sHE IS A GIRL.
You Are Clever.	You are clever.	you are clever.
girls are singing.	Girls ARE SINGING.	Girls are singing.
She buys apples.	sHE BUYS APPLES.	SHE BUYS APPLES.
All Is Eating Grapes.	all is eating grapes.	All is eating grapes.
We love our country.	We love OUR country.	wE love ouR countrY.

سارہ ایک 18 سینٹی میٹر لمبا قطعہ خط کھینچتی ہے پھر اس قطعہ خط کا 9 سینٹی میٹر کا حصہ کاٹ دیتی ہے اب اس قطعہ خط کی کل لمبائی کتنی ہوگی؟

2 سینٹی میٹر

27 سینٹی میٹر

9 سینٹی میٹر

ایک آدمی کے پاس 18 میٹر لمبی رسی ہے اگر وہ اس رسی کا 9 میٹر کا حصہ کاٹتا ہے تو بچے اب اس کے پاس کتنے میٹر رسی باقی ہے

2 میٹر

9 میٹر

27 میٹر

A tailor buys 16m cloth. If he uses 8m cloth to the make a dress .

How much cloth is left?

24m

8m

2m

ایک آدمی 7 کلوگرام آلو اور 12 کلوگرام چاول خریدتا ہے آلو اور چاول کا کل کتنا وزن ہوگا

19

84

5

علی کے پاس ایک کار ہے اس کا رنگ نیلا ہے اس پر سبز جھنڈا لگا ہوا ہے اس کے پیچھے کا رنگ سیاہ ہے علی کو اپنی کار بہت پسند ہے جھنڈے کا کیا رنگ ہے؟

سیاہ

نیلا

سبز

چوہ تیلوں کی ملکہ کے پر ہوتے ہیں وہ بہت سارے ماٹھے دیتی ہے کارکن چوہ تیلیاں کھانا جمع کرتی ہیں اور منگھی چوہ تیلیاں اپنا بل صاف رکھتی ہیں

کارکن

منگھی

ملکہ

کون سے چوہ تیلیاں کھانا جمع کرتی ہیں؟

SLO Word Problems (Math)

<p>(ii) جد کے پاس 25 ٹافیاں ہیں۔ وہ 10 ٹافیاں ساراہ کو دے دیتی ہے۔ اب جد کے پاس کتنی ٹافیاں ہیں؟</p> <p>10 15 35</p>	<p>(i) اکرم کے پاس 16 بکریاں ہیں۔ اس نے 5 بکریاں بیچ دیں۔ اب اکرم کے پاس کتنی بکریاں ہیں؟</p> <p>21 11 12</p>
<p>(iv) احمد کو عید پر 120 روپے اور اشعر کو 130 روپے عیدی ملی۔ دونوں کے پاس کل کتنی عیدی ہے؟</p> <p>250 230 220</p>	<p>(iii) ثانیہ کے پاس 300 روپے ہیں۔ وہ 200 روپے کی کتابیں خرید سکتی ہے۔ اب ثانیہ کے پاس کتنے روپے ہیں؟</p> <p>100 200 300</p>
<p>(vi) اجمل نے سہوار کو 70 سوٹ بیچے اور منگل کو 50 سوٹ بیچے۔ اجمل نے دونوں دنوں میں کل کتنے سوٹ بیچے؟</p> <p>125 120 115</p>	<p>(v) ہارے نے ریاضی میں 100 اور سائنس میں 80 نمبر لائے۔ ہارے کے حاصل کردہ کل نمبر کتنے ہیں؟</p> <p>180 20 200</p>
<p>(viii) ایک ہال میں 75 افراد ہیں۔ 25 افراد حزیب آتے ہیں۔ اب ہال میں کل کتنے افراد ہیں؟</p> <p>110 100 50</p>	<p>(vii) عامر کے پاس 20 کڑ پھلسلیں ہیں۔ وہ 15 اور پھلسلیں خریدا ہے۔ اب عامر کے پاس کتنی پھلسلیں ہیں؟</p> <p>5 30 35</p>
<p>(x) ایک درخت پر 30 پرندے بیٹھے ہیں۔ 23 پرندے اڑ جاتے ہیں۔ باقی کتنے پرندے درخت پر بیٹھے ہیں؟</p> <p>53 7 17</p>	<p>(ix) حامد کے پاس 75 سکے ہیں۔ وہ 25 سکے بچے بھائی کو دے دیتا ہے۔ اب حامد کے پاس کتنے سکے ہیں؟</p> <p>25 50 100</p>

سادہ جملہ	فعل ماضی	فعل مستقبل
میں اندر کھاتا ہوں	میں نے اندر کھایا	میں اندر کھاؤں گا
میں بڑوں کو سلام کرتا ہوں	میں نے بڑوں کو سلام کیا	میں بڑوں کو سلام کروں گا
ہم کرکٹ کھیلتے ہیں	ہم نے کرکٹ کھیلی	ہم کرکٹ کھیلیں گے
مائی پودوں کو پانی دیتا ہے	مائی نے پودوں کو پانی دیا	مائی پودوں کو پانی دے گی
امی چائے پیتا ہے	امی نے چائے پیا	امی چائے پئے گی
علی ریل پر لاہور جاتا ہے	علی ریل پر لاہور گیا	علی ریل پر لاہور جائے گا
کھانا گرم ہے	کھانا گرم تھا	کھانا گرم ہو گا
میں کہانی لکھتا ہوں	میں نے کہانی لکھی	میں کہانی لکھوں گا
آسمان پر بادل ہیں	آسمان پر بادل تھے	آسمان پر بادل ہوں گے
میں ورزش کرتا ہوں	میں نے ورزش کی	میں ورزش کروں گا
ہم گاؤں میں رہتے ہیں	ہم گاؤں میں رہے	ہم گاؤں میں رہیں گے
شہر میں بہت ٹریفک ہے	شہر میں بہت ٹریفک تھی	شہر میں بہت ٹریفک ہو گی
شیر آرام کر رہا ہے	شیر آرام کر رہا تھا	شیر آرام کر رہا ہو گا
کتاب میز پر ہے	کتاب میز پر تھی	کتاب میز پر ہو گی

نوٹ: کم از کم 20 بکس کا آرڈر بھیجا جائے گا۔

اس کتاب کی سافٹ فارم آپ دیکھ رہے ہیں

اور پمبل فائل ہمارا پرسنل ڈیٹا ہے فوٹو سٹیٹ بزنس مالکان

سافٹ فارم میں اور پمبل فائل کے لئے کال نہ کریں

شکر ہے

Solve real life problems involving addition.

روزمرہ زندگی میں جمع سے متعلق سوالات کا حل۔

ٹام کے پاس 10 پھلسیں ہیں وہ مزید 4 پھلسیں خریدتی ہے
اب اس کے پاس کتنی پھلسیں ہیں؟

24

14

6

اس کے پاس 20 پیناں ہیں اس کی بچرات مزید 5 پیناں دیتی ہے
اس کے پاس کل کتنی پیناں ہو گئیں؟

15

20

25

ایک سکول میں 300 لڑکے اور 200 لڑکیاں ہیں
سکول میں کل کتنے طلباء ہیں؟

100

400

500

ایک باغ میں 30 پودے عام روز اور 50 پودے عام کے ہیں
باغ میں کتنے پودے ہیں؟

70

80

20

ایک سکول میں 20 بے کمرے اور 10 پائے کمرے ہیں
کل کتنے کمرے ہیں؟

30

10

200

ایک ہوٹل میں 20 ملازم کام کرتے ہیں ہوٹل
کا مالک 15 ملازم اور رکھ لیتا ہے
ہوٹل میں کل کتنے ملازم ہیں؟

25

5

35

موٹر سائیکل کے شوروم میں 30 بڑے موٹر سائیکل ہیں
مزید 120 موٹر سائیکل آئے ہیں
کل کتنے موٹر سائیکل ہیں؟

90

150

140

مچھ کے پاس 20 چاک ہیں وہ مزید 100 چاک خریدتے ہیں
اب مچھ کے پاس کل کتنے چاک ہیں؟

120

130

80

ماجد کی ریڑھی پر 57 سیب اور 41 لٹے ہیں
اس کی ریڑھی پر کل کتنے پھل ہیں؟

90

98

100

فکار کے پاس 380 لٹے ہیں وہ مزید 500 لٹے خریدتا ہے
فکار کے پاس کل کتنے لٹے ہیں؟

220

980

880

تصویر کے نام کے پہلے
حرف کی شناخت کریں



ط م ن

تصویر کے نام کے پہلے
حرف کی شناخت کریں



ک ت ث

تصویر کے نام کے پہلے
حرف کی شناخت کریں



م ک ء

تصویر کے نام کے پہلے
حرف کی شناخت کریں



م آ ف

تصویر کے نام کے پہلے
حرف کی شناخت کریں



س ت ص

تصویر کے نام کے پہلے
حرف کی شناخت کریں



ط ا س

تصویر کے نام کے پہلے
حرف کی شناخت کریں




ج ح خ

تصویر کے نام کے پہلے
حرف کی شناخت کریں



پ ک ا

تصویر کے نام کے پہلے
حرف کی شناخت کریں



ظ ح ت

تصویر کے نام کے پہلے
حرف کی شناخت کریں



ث ت ق

دکان کی جمع ہے۔

دکانیں

دکانات

دکانوں

پیشا کی جمع ہے۔

پیشا

پیشے

پیشوں

جھنڈا کی جمع ہے۔

جھنڈیاں

جھنڈے

جھنڈوں

پیغام کی جمع ہے۔

پیغام

پیغامات

پیغاموں

پھاڑ کی جمع ہے۔

پھاڑیاں

پھاڑی

پھاڑوں

اٹھ کی جمع ہے۔

اٹھنا

اٹھنا

اٹھوں

گلا کی جمع ہے۔

گلا

گلا

گلا

کتاب کی جمع ہے۔

کتابوں

کتابیاں

کتابیں

لقب کی جمع ہے۔

لقب

لقاب

لقاب

جسم کی جمع ہے۔

جسم

اجسام

جسیم

پکڑا کی جمع ہے۔

پکڑے

پکڑا

پکڑا

پودا کی جمع ہے۔

پودے

پودے

پودے

العام کی جمع ہے۔

العامات

اکرام

انعم

مختی کی جمع ہے۔

مختی

مختوں

مختیاں

یوم کی جمع ہے۔

یوم

یوم

یوم

سردی کی جمع ہے۔

سردیاں

گرمیاں

سرد



SLO : Addition, subtraction of length mass and capacity

28

خلیل کا دفتر گھر سے 9 کلو میٹر دور ہے اور اسکے دوست کا گھر دفتر سے 5 کلو میٹر دور ہے خلیل دوست کے گھر جانے میں کتنا فاصلہ طے کرے گا؟

14 کلو میٹر

10 کلو میٹر

13 کلو میٹر

ایک دوکاندار نے 40 میٹر کپڑے کے تھان سے 15 میٹر کپڑا بیچا ہے۔ دوکاندار کے پاس باقی کتنا کپڑا بیچا؟

55 میٹر

25 میٹر

30 میٹر

اجمل گوالے سے روزانہ 3 لیٹر دودھ لیتا ہے 10 دن میں اجمل کتنے لیٹر دودھ لے گا

30 لیٹر

20 لیٹر

10 لیٹر

قاسم نے 5 کلو آم خریدے قاسم نے ان میں سے 2 کلو چھوٹے آم الگ کر لیے بڑے آموں کا وزن کیا ہو گا؟

4 کلو

3 کلو

2 کلو

ایک پانی کی ٹینکی میں 400 لیٹر پانی ہے اگر اس میں 250 لیٹر پانی اور ڈالا جائے تو ٹینکی میں کل کتنا پانی ہو گا؟


300 لیٹر

450 لیٹر

650 لیٹر



$4 \div 2$	$9 \div 3$	$8 \div 2$
2 1 4	9 1 3	4 2 3
$6 \div 6$	$6 \div 3$	$4 \div 4$
3 6 1	3 2 6	1 2 4
$5 \div 1$	$8 \div 4$	$8 \div 8$
1 4 5	2 3 8	1 2 3
$3 \div 1$	$3 \div 3$	$5 \div 5$
3 2 1	6 9 1	5 1 2
$6-2$	$8-3$	$9-6$
4 2 3	4 5 6	2 3 4
$5-4$	$6-3$	$7-6$
1 2 3	2 3 4	2 3 1
$9-9$	$2-1$	$1-0$
1 2 0	2 1 3	0 1 2
$5-4$	$7-4$	$8-3$
2 3 1	3 4 2	5 6 3



ایک درزی نے منگل کے دن 20 سوٹ اور بدھ کے دن 15 سوٹ بننے درزی نے کل کتنے سوٹ بنے؟	ڈاکٹر صاحب نے 20 تاریخ کو 9 آپریشن کیے اور 21 تاریخ کو 8 آپریشن کیے کل کتنے آپریشن کیے؟
15 سوٹ	15
20 سوٹ	16
35 سوٹ	17
ایک ڈرائیور نے دن کو 200 کلومیٹر اور رات کو 300 کلومیٹر سفر طے کیا ڈرائیور نے کل کتنا سفر طے کیا؟	کسان نے ایک کھیت سے 60 من گندم اور دوسرے کھیت سے 40 من گندم حاصل کی کل کتنی گندم حاصل کی؟
200 کلومیٹر	20 من
300 کلومیٹر	100 من
500 کلومیٹر	140 من
احمد نے ایک ٹی وی دس ہزار میں خرید اور آٹھ ہزار میں بیچ دیا احمد کو کتنی رقم کم ملی؟	بڑھئی نے ایک کرسی 4 گھنٹے اور دوسری کرسی 5 گھنٹے میں بنائی۔ کل کتنا وقت لگا؟
2000 روپے	5 گھنٹے
8000 روپے	7 گھنٹے
6000 روپے	9 گھنٹے
اگر ایک ٹی روزانہ 1 کلو دودھ پینے تو ایک دن میں کتنا دودھ پینے کی؟	ایک مزدور ایک روزانہ 500 روپے کماتا ہے 2 دن میں کتنے روپے کمائے گا؟
1 کلو	1000 روپے
2 کلو	1500 روپے
3 کلو	500 روپے
مسجد میں 10 نمازی جماعت ادا کر رہے ہیں 5 مزید نمازی آکر شامل ہو جاتے ہیں مسجد میں کل کتنے نمازی ہیں؟	ایک تالاب میں 5 ہاتھی نہا رہے ہیں 6 ہاتھی اور آکر تالاب میں نہاتے ہیں کل کتنے ہاتھی نہا رہے ہیں؟
5 نمازی	4 ہاتھی
15 نمازی	1 ہاتھی
20 نمازی	11 ہاتھی

نوید کے پاس گیارہ مچھلیاں ہیں، وہ 9 مچھلیاں فروخت کر دیتا ہے اس کے پاس کتنی مچھلیاں ہیں؟	11	9	2
علی کے پاس 13 بکٹس ہیں، 5 بکٹس وہ کھاتا ہے باقی علی کے پاس کتنے بکٹس ہیں؟	5	8	13
ایک ہوٹل میں بڑوں کے لیے 100 کرسیاں اور بچوں کے لیے 20 کرسیاں ہیں، ہوٹل میں کل کتنی کرسیاں ہیں؟	80	120	100
عامر ایک دن میں 200 کھاتا ہے، عامر پختے میں کتنے پیسے کمائے گا؟	1400	1200	200
امتحالی ہال میں کرسیوں کی 30 لائیں ہیں ہر لائن میں 5 کرسیاں ہیں کل کتنی کرسیاں ہیں؟	35	200	150
اکبر کے پاس 20 سیب ہیں وہ پانچ دوستوں میں برابر تقسیم کرتا ہے ہر دوست کو کتنے سیب ملے؟	4	20	15
زویب ایک درجن کیلے خریدتا ہے، وہ 6 کیلے دوست کو دیتا ہے اس کے پاس باقی کتنے کیلے ہیں؟	6	8	12
ایک فونو گرافر ایک منٹ میں ایک تصویر ناتا ہے 20 منٹ میں کتنی تصویریں بنائے گا؟	20	15	10
شیر ہر گھنٹے بعد ایک گلاس پانی پیتا ہے 5 گھنٹوں میں کتنے گلاس پانی پیے گا؟	6	5	3
ایک ٹرین میں 400 مسافر ہیں ایک اسٹیشن پر 90 مسافر اتر جاتے ہیں ٹرین میں باقی کتنے مسافر ہیں	310	410	490
عمران کے پاس 30 کھرچنٹے ہیں وہ انہیں 10 دوستوں میں برابر تقسیم کر دیتا ہے ہر دوست کو کتنے کھرچنٹے ملیں گی	3	4	5

دو حرفی

ک+ن =

ج+ژ =

ت+و =

ش+ر =

ج+ن =

چھ+پ =

گھ+ی =

گھ+ر =

پھ+ل =

ٹھ+گ =

ج+ل =

م+ن =

ف+ن =

ک+ل =

ج+گ =

گ+م =

ح+ل =

س+ج =

ب+ن =

گھ+ٹ =

ت+پ =

م+ل =

س+پ =

گ+ل =

ک+م =

س+ن =

ج+م =

پ+س =

ج+ل =

بھ+ی =

تین حرفی

س+ف+ر =

ج+ن+گ =

ی+ا+و =

پ+ہ+ل =

ڈ+پ+ہ =

کھ+ا+ل =

پھ+ی+ل =

گھ+ا+ٹ =

گھ+ژ+ی =

گھ+ژ+ا =

ک+س+ے =

س+خ+ت =

ق+ل+م =

ش+و+ق =

س+ز+ا =

A lion lives in jungle.
Jungle is full of trees.
He eats meat.
What does lion eat?

Meat Grass Tree

Boys play in the garden.
They play badminton.
They play in the evening.
Where did children play?

Evening Badminton Garden

Aslam lives in a city.
He goes to school. He
wants to become a teacher.
Where does Aslam live?

School Village City

I have a toy.
Its colour is white.
I play with it.
What do I play with?

White Toy Shop

My favourite fruit is mango.
It is yellow in colour.
It is very sweet. What
is the colour of mango?

Green Yellow Red

Fluffy is a cat.
She plays with the ball.
Fluffy jumps very high.
What does cat play with?

Fluffy Ball Jump

Farhan and Ahsan are
friends. Farhan lives in
Karachi. Karachi is a big city.
Which is big city?

Farhan Karachi Ahsan

I have a cat.
Her eyes are blue.
She drinks milk.
Who drinks milk?

Cat Eyes Blue

Amir goes to Murree.
He rides chairlift.
He enjoys very much.
Where does Amir go?

Murree Chairlift Enjoy

It is 5`O Clock.
Sun is rising.
Sun is red.
What is red?

Clock Morning Sun

درست ترتیب کے جملوں کی نشاندہی کریں۔

- | | | | |
|--------------------------|--------------------------|--------------------------|----|
| ہم نے لگائے درخت | ہم نے درخت لگائے | لگائے ہم نے درخت | 1 |
| ابو نے کار خریدی | ابو نے خریدی کار | کار ابو نے خریدی | 2 |
| کھایا ہرن شیر نے | ہرن شیر نے کھایا | شیر نے ہرن کھایا | 3 |
| اتارتا ہے جہاز پائلٹ | جہاز پائلٹ اتارتا ہے | پائلٹ جہاز اتارتا ہے | 4 |
| بنایا مکان مستری نے | مستری نے مکان بنایا | مکان بنایا مستری نے | 5 |
| احمد سکول جاتا ہے | سکول احمد جاتا ہے | سکول جاتا ہے احمد | 6 |
| حامد جائے سکول گا | حامد سکول جائے گا | حامد گا سکول جائے | 7 |
| ہوگا کل جمعہ | جمعہ ہوگا کل | کل جمعہ ہوگا | 8 |
| پھل تیرتی ہے پانی میں | پھل پانی میں تیرتی ہے | تیرتی ہے پھل پانی میں | 9 |
| دکاندار بچل رہا ہے | بچل رہا ہے دکاندار بچل | دکاندار بچل بچل رہا ہے | 10 |
| استاد ریاضی پڑھا رہے ہیں | ریاضی استاد پڑھا رہے ہیں | استاد ریاضی پڑھا رہے ہیں | 11 |
| امی پکار رہی ہیں کھانا | پکار رہی ہیں امی کھانا | امی کھانا پکار رہی ہیں | 12 |
| کاشف نے خط لکھا | خط لکھا کاشف نے | کاشف نے لکھا خط | 13 |
| پانی میں پیتا ہوں | پانی پیتا ہوں میں | میں پانی پیتا ہوں | 14 |
| بچہ کھلونا توڑتا ہے | کھلونا بچہ توڑتا ہے | بچہ توڑتا ہے کھلونا | 15 |

Multiply 2 digit number with one digit number.

$$\begin{array}{r} 24 \\ \times 2 \\ \hline \end{array}$$

$$\begin{array}{r} 11 \\ \times 6 \\ \hline \end{array}$$

$$\begin{array}{r} 19 \\ \times 1 \\ \hline \end{array}$$

84

48

40

66

60

76

29

91

19

$$\begin{array}{r} 43 \\ \times 2 \\ \hline \end{array}$$

$$\begin{array}{r} 10 \\ \times 3 \\ \hline \end{array}$$

$$\begin{array}{r} 32 \\ \times 4 \\ \hline \end{array}$$

68

80

86

103

30

300

128

182

120

$$\begin{array}{r} 33 \\ \times 3 \\ \hline \end{array}$$

$$\begin{array}{r} 25 \\ \times 5 \\ \hline \end{array}$$

$$\begin{array}{r} 31 \\ \times 7 \\ \hline \end{array}$$

100

99

91

225

325

125

317

217

117

11 ایک ہوٹل میں 14 کمرے ہیں۔
ہر کمرے میں 6 لوگ موجود ہیں۔
ہوٹل میں کل کتنے لوگ ہیں؟

10 راجہ کے پاس 12 ڈبے ہیں۔
وہ ہر ڈبے میں 8 بنیاں رکھتی ہے۔
راجہ کے پاس کل کتنی بنیاں ہیں؟

8

84

20

96

20

4

13 آٹھ کے پاس 10 توکریاں ہیں۔
اس نے ہر توکری میں 3 اٹھ رکھے۔
آٹھ کے پاس کل کتنے اٹھ ہیں۔

12 ایک باغ میں 15 درخت ہیں۔
ہر درخت پر 2 پرندے بیٹھے ہیں۔
باغ میں کل کتنے پرندے ہیں؟

13

7

30

30

17

13

Sarim works in a shop. He works there for 8 hours. He sells clothes. What does Sarim sell?			An elephant has four legs. It like sugarcane. It has a trunk. What does elephant like?		
Shoes	Biscuits	Clothes	Gram	Sugarcane	Meet
My school has 10 rooms. It has one canteen. It has a computer lab. How many rooms are there in the school?			Nargis has 12 dolls. She gives 5 dolls to her sister. They play with dolls. How many dolls Nargis gave to her sister?		
20	12	10	10	5	15
Fiza goes bazar with her family. Her father buys shoes. Her mother buys clothes. Who buys clothes?			Nafeesa has three brothers. Their names are Ali, Arif and Subhan. Subhan is the youngest. Who is the youngest?		
Father	Mother	Fiza	Ali	Arif	Subhan
Ali has a parrot, a duck and a hen. Parrot name is bunty. They play together. What is the name of parrot?			Rani is a fish. She lives in river with her sister Reen. They eat gram. What is the name of Rani's sister?		
Bunty	Flify	Roomi	Rani	Reen	Fish
Sania is cooking rice. Her mother is cleaning sofa. Her brother is helping mother. What is Sania's mother cleaning?			Akram lives in Gujrat. He is going to visit his uncle in Lahore. They will go to the park for picnic. Where does Akram live?		
Chair	Sofa	Table	Gujrat	Lahore	Park

Differentiate between even and odd number

$^1_2 \sqrt{2}$ Even	$^1_2 \sqrt{3}$ Odd	$^2_2 \sqrt{4}$ Even	$^2_2 \sqrt{5}$ Odd	$^3_2 \sqrt{6}$ Even	$^3_2 \sqrt{7}$ Odd	$^4_2 \sqrt{8}$ Even
2	2	4	4	6	6	8
0	1	0	1	0	1	0

جب کوئی عدد 2 پر پورا تقسیم ہو جائے تو وہ عدد زوجت (Even) ہوتا ہے
 اور جب کوئی عدد 2 پر پورا تقسیم نہ ہو اور کچھ باقی بچ جائے تو یہ عدد طاق (Odd) ہوتا ہے

عدد 45 ہے		عدد 35 ہے		عدد 10 ہے	
odd	even	odd	even	odd	even
عدد 47 ہے		عدد 32 ہے		عدد 9 ہے	
odd	even	odd	even	odd	even
عدد 48 ہے		عدد 31 ہے		عدد 7 ہے	
odd	even	odd	even	odd	even
عدد 49 ہے		عدد 3 ہے		عدد 11 ہے	
odd	even	odd	even	odd	even
عدد 50 ہے		عدد 40 ہے		عدد 23 ہے	
odd	even	odd	even	odd	even
عدد 51 ہے		عدد 41 ہے		عدد 20 ہے	
odd	even	odd	even	odd	even
عدد 52 ہے		عدد 42 ہے		عدد 5 ہے	
odd	even	odd	even	odd	even
عدد 53 ہے		عدد 43 ہے		عدد 50 ہے	
odd	even	odd	even	odd	even

حروف اضافت: کا، کی، کے

کا	کی	کے	تانیہ۔۔۔۔۔ قلم میرے پاس ہے۔
کا	کی	کے	میں نے ریاضی۔۔۔۔۔ کام مکمل کر لیا ہے۔
کا	کی	کے	نعمان۔۔۔۔۔ بہن جماعت سوم میں پڑھتی ہے۔
کا	کی	کے	استانی صاحبہ۔۔۔۔۔ کرسی کہاں ہے؟
کا	کی	کے	عمیر۔۔۔۔۔ انگلی میں دروہور ہے۔
کا	کی	کے	معاذ۔۔۔۔۔ بلاگم ہو گیا ہے۔
کا	کی	کے	بلی۔۔۔۔۔ بچہ شور کر رہا ہے۔
کا	کی	کے	بلال۔۔۔۔۔ قمیص استری کرو۔
کا	کی	کے	آمنہ۔۔۔۔۔ بھائی دوڑ رہا ہے۔
کا	کی	کے	وسیم۔۔۔۔۔ فٹ بال ٹیم اچھی ہے۔
کا	کی	کے	جہانگیر۔۔۔۔۔ گھر شادی ہے۔
کا	کی	کے	عمیر۔۔۔۔۔ دانت میں دروہ ہے۔
کا	کی	کے	افضل۔۔۔۔۔ گھر نیا ہے۔
کا	کی	کے	فیصل۔۔۔۔۔ قمیص پھول دار ہے۔
کا	کی	کے	رضا۔۔۔۔۔ موبائل خراب ہو گیا ہے۔
کا	کی	کے	حامد نے اٹھویں۔۔۔۔۔ امتحان پاس کر لیا ہے۔

(i) عمیر تیسری کلاس میں ہے۔ وہ اگلے سال چوتھی کلاس میں ہو جائے گا۔ عمیر پڑھائی میں محنت کرتا ہے۔

عمیر کس کلاس میں ہے؟

سکول

چوتھی

تیسری

(ii) ماریہ کے ابو کار پر دفتر جاتے ہیں۔ ماریہ روزانہ کشر پر سکول جاتی ہے۔ ای کھر پر رہتی ہیں۔

رکشر پر کون جاتا ہے؟

ای

ماریہ

ابو

(iii) ارشد نے پارک میں کیا۔ پارک میں درختوں پر گونسلے ہیں۔ ارشد نے گے ہوئے گونسلے کو دوبارہ درخت پر دکھ دیا۔

ارشد نے درختوں پر کیا دیکھے؟

گونسلے

بچے

پرندے

(iv) علی کو کرکٹ بہت پسند ہے۔ علی کو اس کے ماموں نے ایک گیند اور بلا تھپے میں دیا۔ علی خوشی سے کہتا ہے۔

علی کو ماموں نے تھپے میں کیا دیا؟

گیند اور بلا

بلا

گیند

(v) آج بہتی کے زیادہ لوگ میں ہیں۔ کسان فصل کاٹ رہے ہیں۔ زیادہ پانی پلا رہا ہے۔ عامر کھانا کھا رہا ہے۔

پانی کون پلا رہا ہے؟

لوگ

زیادہ

عامر

(vi) آج شیر کی سالگرہ ہے اس کی خال نے اس کو تھپے میں گزری دی۔ بچانے تھپے میں سوٹ دیا۔ ابو نے ایک بچایا۔

بچانے شیر کو تھپے میں کیا دیا؟

سوٹ

کیک

گزری

(vii) تھو تھوں کی ملک بہت سے اٹھ رہتی ہے۔ کارکن تھو تھوں کھا رہی ہیں۔ نھمی تھو تھوں بل ساف دکھتی ہیں۔

اٹھ رہے زیادہ کون رہتی ہے؟

ملکہ

کارکن

نھمی

(viii) جہانزیب کو کتابیں پڑھنے کا بہت شوق ہے۔ وہ پہلے تصویریں دیکھتا ہے پھر پڑھتا ہے۔

جہانزیب پہلے کیا دیکھتا ہے؟

حرف

تصویریں

کتاب

(ix) عمیرہ کو بیاض کا مضمون پسند ہے۔ لیکن راشدہ کو انگلش پسند ہے۔ دونوں ایک دوسرے کی مدد کرتی ہیں۔

انگلش کسے پسند ہے؟

دونوں کو

راشدہ کو

عمیرہ کو

(x) خرم کے بچا استاد ہیں۔ وہ چوتھی جماعت کو پڑھاتے ہیں۔ وہ اردو پڑھاتے ہیں۔

خرم کے بچا کس کلاس کو پڑھاتے ہیں؟

تیسری

پانچویں

چوتھی

29	19	39	طنیل کے پاس 18 گائے ہیں وہ 11 گائے اور خریدتا ہے اس کے پاس کتنی گائے ہیں؟
100	200	300	دکاندار کے پاس کوئی مرئی نہیں ہے وہ 100 مرئی خریدا ہے اس کا دکاندار کے پاس کتنی مرئیاں ہیں؟
0	10	35	رضوان کے پاس 7 چاکلیٹ ہیں وہ 7 چاکلیٹ دوستوں میں اور دکاندار کے پاس کتنی چاکلیٹ ہیں؟
20	15	35	تیسری کلاس میں 20 لڑکے اور 15 لڑکیاں ہیں کل کتنے بچے ہیں؟
1	2	3	نواز کے پاس 3 کاریں ہیں وہ ایک کار بیچ دیا ہے اس کے پاس کتنی کاریں ہیں؟
100	150	200	طلحہ کے پاس 100 روپے ہیں اس کو پھر 50 روپے انعام دینے پر اب طلحہ کے پاس کتنے روپے ہیں؟
0	1	2	مسجد کے ہال میں 22 چمچے اور صحن میں 21 چمچے ہیں کل کتنے چمچے ہیں؟
100	120	220	ہوٹل میں 120 چمچے ہیں۔ ہوٹل مالک نے 100 چمچے اور لیتا ہے اب ہوٹل والے کے پاس کتنے چمچے ہیں؟
170	160	90	علی کے اردو میں 80 اور انگلش میں 90 نمبر آتے ہیں کل کتنے نمبر ہیں؟
27	7	17	ایک درخت پر 17 پرندے ہیں 10 اڑ جاتے ہیں باقی کتنے پرندے ہیں؟
20	25	30	ایک ٹوکری میں 15 سیب اور 15 مالٹے ہیں کل کتنے پھل ہیں؟
10	20	30	عنان کے پاس 30 روپے ہیں وہ 10 روپے خرچ کرتا ہے اس کے پاس کتنے روپے باقی ہیں؟
7	8	9	کامران کے پاس 12 کڑے ہیں وہ 5 کڑے اور دکاندار کے پاس کتنی کڑے ہیں؟
8	20	10	مرفان کے پاس 6 ٹوٹ بکس ہیں وہ 14 اور خریدتا ہے مرفان کے پاس کتنی ٹوٹ بکس ہیں؟
25	15	10	بارغ میں 15 پودے ہیں مالی 10 پودے اور لگاتا ہے بارغ میں کتنے پودے ہیں؟

جملے کی ساخت میں زمانہ کی تبدیلی ہے ، تھا ، ہوگا سے کر کے

بارش ہو رہی ہے کا فعل ماضی ہے

بارش ہو رہی تھی

بارش ہو رہی ہوگی

بارش ہو رہی ہے

عام کرکٹ کھیلے گا کا فعل حال ہے

کیا عام کرکٹ کھیلتا ہے

عام کرکٹ کھیلتا ہے

عام کرکٹ کھیلا تھا

ٹاویڈا کٹر بنے گی کا فعل ماضی ہے

ٹاویڈا کٹر ہے

ٹاویڈا کٹر بن رہی تھی

ٹاویڈا کٹر بنی تھی

عاصم نے بیچ دیا تھا کا فعل حال ہے

عاصم نے بیچ دیا ہے

عاصم بیچوے گی

عاصم نے بیچ دیا تھا

ہم سندھ کی سیر کو جائیں گے کا فعل حال ہے

ہم سندھ کی سیر کو گئے تھے

ہم سندھ کی سیر کو جائیں گے

ہم سندھ کی سیر کو جاتے ہیں

یہ کارٹیز چلتی ہے کا فعل ماضی ہے

یہ کارٹیز چلی ہے

یہ کارٹیز چلتی تھی

یہ کارٹیز چلے گی

کل بارش ہوگی کا فعل ماضی ہے

کل بارش ہوئی ہے

کل بارش ہوگی

کل بارش ہوئی تھی

Identify The Proper Noun

Amir is a nice boy .

Amir

Nice

Boy

Identify The Proper Noun

I Live In Lahore.

I

Live

Lahore

Identify The Proper Noun

**My country is
pakistan.**

My

Country

Pakistan

Identify The Proper Noun

**Ali is a reading a
book.**

Ali

Reading

Book

Identify The Proper Noun

**I saw
minar-e-Pakistan.**

I

Saw

Minar e pak

Identify The Proper Noun

I like apple.

Apple

I

Like

Identify The Proper Noun

I like winter.

Winter

I

Like

Identify The Proper Noun

**I go to school in
August.**

Go to

School

August

Identify The Proper Noun

I walk in Hill park.

Walk

In

Hillpark

Identify The Proper Noun

**School is open in
january.**

School

Open

January

Three digit addition with borrow

6

$$\begin{array}{r} 277 \\ + 136 \\ \hline \end{array}$$

417 303 413

$$\begin{array}{r} 382 \\ + 127 \\ \hline \end{array}$$

509 409 503

$$\begin{array}{r} 160 \\ + 742 \\ \hline \end{array}$$

902 903 904

$$\begin{array}{r} 150 \\ + 458 \\ \hline \end{array}$$

806 608 708

$$\begin{array}{r} 453 \\ + 396 \\ \hline \end{array}$$

852 552 849

$$\begin{array}{r} 267 \\ + 482 \\ \hline \end{array}$$

725 852 749

$$\begin{array}{r} 351 \\ + 463 \\ \hline \end{array}$$

817 814 712

$$\begin{array}{r} 460 \\ + 182 \\ \hline \end{array}$$

552 654 642

$$\begin{array}{r} 190 \\ + 693 \\ \hline \end{array}$$

658 833 883

$$\begin{array}{r} 553 \\ + 678 \\ \hline \end{array}$$

1229 1231 1429

$$\begin{array}{r} 148 \\ + 458 \\ \hline \end{array}$$

606 608 508

$$\begin{array}{r} 729 \\ + 852 \\ \hline \end{array}$$

1581 1451 1482

$$\begin{array}{r} 476 \\ + 658 \\ \hline \end{array}$$

1232 1134 1239

$$\begin{array}{r} 465 \\ + 389 \\ \hline \end{array}$$

552 854 752

$$\begin{array}{r} 981 \\ + 132 \\ \hline \end{array}$$

1232 1113 1313

اسم کی شناخت کر کے مندرجہ ذیل جملے میں اسم شناخت کریں

اسم نام کو کہتے ہیں، آپ کا نام اسم ہے، آپ کے ابو کا نام اسم ہے، آپ کی گلی، پالتو جانور، مکان اسم ہیں
خالد سکول جاتا ہے، بچہ دودھ پیتا ہے، زمین گول ہے آسمان ٹیلا ہے خالد بچہ، زمین، آسمان اسم ہیں

ابو نماز پڑھتے ہیں			کپور تار ہے		
پڑھتے	ابو	نماز	تار	تار	کپور
ہاتھی مجھے پڑھاتی ہے			کسان تل چلاتا ہے		
مجھے	ہاتھی	پڑھاتی	چلاتا	تل	کسان
میرے کان میں درد ہے			ڈرائیور گاڑی چلاتا ہے		
میرے	درد	کان	ڈرائیور	چلاتا	گاڑی
یہ میری کتاب ہے			اس کا بستہ ٹیلا ہے		
یہ	میری	کتاب	بستہ	اس	ٹیلا
گاڑی تیز چلتی ہے			میرا گھر خوبصورت ہے		
چلتی	گاڑی	تیز	میرا	گھر	خوبصورت
قائد اعظم ہمارے رہنما ہیں			عقاب اونچا اڑتا ہے		
ہمارے	قائد اعظم	رہنما	اڑتا	عقاب	اونچا
پانی بیٹھا ہے			بازار میں رش ہے		
پانی	بیٹھا	ہے	میں	بازار	رش
لسی لگی ہے			دودھ ٹھنڈا ہے		
لگی	ہے	لسی	دودھ	ٹھنڈا	ہے

مونث	ذکر	مونث	ذکر
بیٹی	بیٹا	ملکہ	پادشاہ
بھتیجی	بھتیجا	مکڑی	مکڑا
پھوپھی	پھوپھا	ماں	باپ
نواسی	نواسا	چیونٹی	چیونٹا
بھانجی	بھانجا	بکری	بکرا
پوتی	پوتا	مرغی	مرغا
استانی	استاد	گدھی	گدھا
نانی	نانا	ہرنی	ہرن
وادی	وادا	چوہیا	چوہا
خالہ	خالو	گائے	بیل
رانی	راجہ	ہتھنی	ہاتھی
پوھییا	پوڑھا	گھوڑی	گھوڑا
ممائی	ماموں	کتیا	کتا
بہو	داماد	شیرنی	شیر
ساس	سر	مورنی	مور

English

Identify the plural words

Seven



Three



Five



Pen

Penz

Pens

boxes

boxis

boxes

Balz

Balls

Bales

Four



Three



Six



Bottle

Bottles

Botiz

Chairz

Chairs

chairs

Apiz

aple

apples

Six



Five



Two



Levs

leaves

lefs

books

bokez

bookis

Ringz

Rings

Rengs

Three



seven



Six



Trees

Treec

Tris

Balooms

Bloonz

balenz

Bat

Bats

Batz

Mathematics SLO (Four digit addition) چار ہندسی جمع

1 4569
 $+2350$

6919

6819

6810

2 3264
 $+4321$

3411

7585

6585

3 4565
 $+1555$

6120

6020

5920

4 6768
 $+5432$

10200

11200

12200

5 7585
 $+4825$

12310

12410

12000

6 9509
 $+1350$

10859

10800

9859

7 2593
 $+1254$

3847

3647

3747

8 4993
 $+2117$

7110

7010

6910

9 1500
 $+2050$

3550

2550

3500

10 8800
 $+7359$

12159

14159

15159

11 1869
 $+2231$

4100

4000

3900

12 2547
 $+2613$

5150

5140

5160

English SLO Comprehension

- 1 Asif is eating burger. His favourite food is sandwich. He does not eat candies.
What is Asif eating?

burger

sandwich

burger

- 2 Ali studies Lahore. His parents live in Multan. He will go to Islamabad next year.
Where will Atif go next year?

Lahore

Islamabad

Multan

- 3 Saad, Jamil and Ali are best friends. Ali writes poems and draw pictures. Saad loves his pictures and jamil likes his poems. Who writes poems?

Jamil

Saad

Ali

- 4 Maria is ten years old. She has a sister and brother. Her sister is eight years old. Her brother is five years old.
How old is Maria's sister ?

Eight

Five

Ten

- 5 Aqsa is wearing a pink dress. She has a purple shoes. Her blue bag is looking beautiful.
What is the colour of Aqsa's shoes?

Pink

Purple

Blue

1 علی کے پاس 36 ٹھہرے تھے۔ اس نے 9 ٹھہرے اپنے دوست کو دے دیئے۔ اب علی کے پاس کتنے ٹھہرے ہیں؟

2 مریم کے پاس 35 چاکلیٹس تھیں۔ اگر اس نے 7 چاکلیٹس اپنی دوست کو دے دیں تو اب مریم کے پاس کتنی چاکلیٹس ہیں۔

40

42

28

45

27

4

3 عادل 40 منٹ کی ایک کتاب پڑھ رہا ہے۔ 8 منٹ پڑھ چکا ہے۔ اب اسے پڑھنے کے لیے کتنے منٹ ہیں؟

4 ایک نوکری میں 25 آم اور 11 سیب ہیں۔ اس نوکری میں سے 5 آم اور 5 سیب اٹھائیں تو اب نوکری میں پھلوں کی تعداد کتنی رہے جائے گی؟

16

36

26

32

30

28

5 کلیم پانچویں جماعت میں پڑھتا ہے اسکی جماعت میں 15 لڑکے اور 10 لڑکیاں ہیں۔ علی جماعت میں طلباء کی کل تعداد کتنی ہے؟

6 ایک دوکاندار صبح میں 35 سیب اور شام میں 20 سیب بیچتا ہے۔ بتائیے اس نے کل کتنے سیب فروخت کیے؟

15

55

45

5

150

25

7 ایک ڈبے میں 15 سفید رنگ کی گیندیں اور 30 نارنجی رنگ کی گیندیں ہیں۔ اس ڈبے میں موجود گیندوں کی کل تعداد کتنی ہے؟

8 احمد نے پہلے امتحان میں 15 نمبر اور دوسرے امتحان میں 20 نمبر حاصل کیے۔ اس نے دونوں امتحانات میں کل کتنے نمبر حاصل کیے؟

15

5

35

55

45

15

English SLO Correct arrangement of subject verb & object

Identify the correct sentence (SVO)

1 Ali plays football. ✓	plays football Ali.	football Ali plays.
2 to the park Amna walks.	Amna walks to the park.	walks to the park Amna.
3 the tree He climbs.	climbs the tree He.	He climbs the tree.
4 watering the plants We are.	are watering the plants We.	We are watering the plants.
5 playing hockey He is.	is playing hockey He.	He is playing hockey.
6 a letter Rashid writes.	Rashid writes a letter.	writes a letter Rashid.
7 in the water Fish swims.	swims in the water Fish.	Fish swims in the water.
8 milk Cat drinks.	Cat drinks milk.	drinks milk Cat.
9 on the grass Pigeons sit.	sit on the grass Pigeons.	Pigeons sit on the grass.
10 Birds fly in the year.	fly in the year Birds.	in the year Birds fly.
11 to school We go.	go to school We.	We go to school.
12 Meats Dog eats.	eats meats Dog.	Dog eats meats.
13 books She reads.	She reads books.	reads books She.
14 in the air She is jumping.	is jumping in the air She.	She is jumping in the air.
15 a story Ayesha writes.	writes a story Ayesha.	Ayesha writes a story.
16 a book We read.	read a book We.	We read a book.
17 a bag He makes.	He makes a bag.	makes a bag He.
18 woods Woodcutter cuts.	cuts woods Woodcutter.	Woodcutter cuts woods.
19 boat Sailor runs.	runs boat Sailor.	Sailor runs boat.
20 sleeping under a tree Goat is.	is sleeping under a tree Goat.	Goat is sleeping under a tree.

ہم آواز الفاظ کی نشاندہی کر سکتے

"کام" کا ہم آواز لفظ ہے۔			"عملہ" کا ہم آواز لفظ ہے۔		
کام	علم	قلم	عملہ	لڑائی	صلح
"سب" کا ہم آواز لفظ ہے۔			"کبیت" کا ہم آواز لفظ ہے۔		
تمام	شب	باب	چھت	زمین	ریت
"گھر" کا ہم آواز لفظ ہے۔			"جان" کا ہم آواز لفظ ہے۔		
آشیانہ	مار	شر	مان	جوش	کون
"رنگ" کا ہم آواز لفظ ہے۔			"کھائیں" کا ہم آواز لفظ ہے۔		
سنگ	گہرا	ساگ	سوئیں	لگائیں	کھانا
"کام" کا ہم آواز لفظ ہے۔			"بھانا" کا ہم آواز لفظ ہے۔		
موم	شام	مصروف	خوبصورت	بھانا	رنگ کرنا
"شان" کا ہم آواز لفظ ہے۔			"غم" کا ہم آواز لفظ ہے۔		
رونیق	مان	عزت	قوم	خوشی	دم
"سور" کا ہم آواز لفظ ہے۔			"ساری" کا ہم آواز لفظ ہے۔		
شور	پرندہ	ٹھانڈ	سب	آری	مولی
"ہالی" کا ہم آواز لفظ ہے۔			"سال" کا ہم آواز لفظ ہے۔		
مولی	سورخ	ہالی	کھل	برس	مال
"پارش" کا ہم آواز لفظ ہے۔			"پات" کا ہم آواز لفظ ہے۔		
مخوش	برسات	خارش	رات	رات	کلام



ایس ایل او: دو ہند کی عدد کی ایک ہند سے ضرب

24×2

58

48

26

34×1

34

35

45

14×2

26

27

28

31×6

186

192

148

42×5

220

230

210

34×2

66

67

68

45×1

45

46

47

61×6

377

366

376

92×2

184

186

188

74×5

270

370

372

31×7

217

227

228

41×8

328

338

348

90×7

630

697

650

70×8

560

570

580

85×2

170

180

190

49×1

48

49

50

40×9

350

360

370

31×9

279

289

299

Compare Two Numbers Using Symbols <, > and =

29

خالی جگہ میں کوئی علامت آئے گی؟

1 0

< > =

31 48

< > =

50 7

< > =

41 46

< > =

1 1

< > =

26 26

< > =

67 76

< > =

10 10

< > =

خالی جگہ میں کوئی علامت آئے گی؟

34 33

< > =

299 599

< > =

100 100

< > =

25 50

< > =

50 25

< > =

4 3

< > =

190 100

< > =

11 11

< > =

Mathematics SLO

دو ہندسے کی ایک ہندسے تک تقسیم

1

$50 \div 5 =$

10

12

9

2

$45 \div 5 =$

8

9

7

3

$5 \div 5 =$

5

1

10

4

$40 \div 4 =$

10

4

40

5

$36 \div 4 =$

36

9

4

6

$32 \div 4 =$

30

22

8

7

$28 \div 4 =$

9

7

8

8

$24 \div 4 =$

6

24

4

9

$30 \div 3 =$

30

3

10

10

$27 \div 3 =$

18

9

27

11

$24 \div 3 =$

8

18

24

12

$21 \div 3 =$

5

7

9

12

$20 \div 2 =$

10

9

8

13

$18 \div 2 =$

7

8

9

14

$16 \div 2 =$

6

8

10

Identify the adjective .
It is a big animal .

A

Big

Animal

Identify the adjective .

I have a beautiful toy.

Have

Toy

Beautiful

Identify the adjective .

Giraffe is a tall animal

Giraffe

Tall

Animal

Identify the adjective .

He is ten year old.

Ten

Old

He

Identify the adjective .

My dress is bright.

Dress

Is

Bright

Identify the adjective .

The park is green.

Green

Is

Park

Identify the adjective .

Quran is famous book.

Quran

Famous

Book

Identify the adjective .

Box is rectangle shape.

Box

Rectangle

Shape

Identify the adjective .

Teacher is great.

Teacher

Is

Great

Identify the adjective .

My classroom is clean.

Classroom

Is

Clean

Identify the adjective .

I have a red bag.

Have

Bag

Red

Identify the adjective .

Ball is round.

Ball

Is

Round

Identify the adjective .

It is a new car.

Car

Is

New

Identify the adjective .

Dog is faithful animal.

Dog

Animal

Faithful

Identify the adjective .

There is little water in glass.

Little

Water

Glass

Identify the adjective .

I have few books.

Have

Books

Few

(i) علی اپنے ماموں کی شادی پر لاہور جائے گا۔ علی کے ابو کا پر جائیں گے۔ علی ہوائی جہاز سے جائے گا۔

جہاز میں سفر کون کرے گا؟ علی علی کے ماموں علی کے ابو

(ii) ایک چرواہا جنگل میں بکریاں چارہ اٹھا ایک شیر آگیا۔ شیر اس کی بکری کھا گیا۔

بکری کون کھا گیا؟ چرواہا جنگل شیر

(iii) امر کے فارم پر 5 بھیڑیں اور 6 گائیں ہیں۔ امر روزانہ فروخت کرتا ہے۔

امر کیا فروخت کرتا ہے؟ گائے بھیڑیں گدھے

(iv) کام کے گھر کو رنگ کیا گیا۔ دروازوں پر بنر رنگ اور کڑکیوں پر گلابی رنگ کیا گیا۔

کڑکیوں پر کونسا رنگ کیا گیا؟ بنر گلابی رنگ

(v) ابو نے بچوں کو عید دی دی۔ مکان کو 100 روپے ملے۔ باس کو بھی 100 روپے ملے۔

عید کس نے دی؟ باس مکان ابو

(vi) سونیا کی دادی کا نام طیر ہے۔ طیر کی عمر 90 سال ہے۔ دادی سونیا کو کہانیاں سناتی ہے۔

دادی کی عمر کتنی ہے؟ 80 سال 90 سال 100 سال

(vii) خالد وقت کی پابندی کرتا ہے۔ وہ صبح 5 بجے اٹھتا ہے اور نماز کے بعد پارک جاتا ہے۔

کون وقت کی پابندی کرتا ہے؟ نماز پارک خالد

(viii) آج گاؤں میں میلہ ہے۔ تمام لڑکوں نے نئے کپڑے پہنے ہیں۔ میلے میں مٹھائی بہت اچھی ہے۔

نئے کپڑے کس نے پہنے ہیں؟ گاؤں لڑکوں نے میلے والوں نے

(ix) نما کی امی استانی ہیں۔ نما کا بھائی باسرا ڈاکٹر ہے اور عامرا انجینئر ہے۔ نما ڈاکٹر بننا چاہتی ہے۔

نما کیا بننا چاہتی ہے؟ انجینئر ڈاکٹر استانی

(x) طوطا ایک خوبصورت پرندہ ہے۔ طوطا درخت میں گھر بناتا ہے۔ طوطا بچوں کے ساتھ باتیں کرتا ہے۔

درخت میں گھر کون بناتا ہے؟ طوطا بچے پرندہ

ایک بس نے ایک سٹاپ سے دوسرے سٹاپ تک 9 کلومیٹر کا فاصلہ طے کیا جبکہ دوسرے سٹاپ سے تیسرے سٹاپ تک 14 کلومیٹر کا فاصلہ طے کیا بس نے کل کتنا فاصلہ طے کیا؟

108

24

23

ایک درزی نے ٹینٹ بنانے کے لئے 9 میٹر کپڑا استعمال کیا اور دوسرا ٹینٹ بنانے کے لئے 17 میٹر کپڑا استعمال کیا اس نے کل کتنا کپڑا استعمال کیا؟

26

153

8

ایک دوکاندار کے پاس 28 کلوگرام آلو ہیں اگر وہ 7 کلوگرام آلو فروخت کر دیتا ہے تو اس کے پاس کتنے آلو باقی بچے؟

21

35

4

عبداللہ 5 کلوگرام چینی خریدتا ہے اور 12 کلوگرام آٹا خریدتا ہے چینی اور آٹے کا کل وزن کتنا ہوگا؟

60

17

7

اکرم 12 کلوگرام چینی خریدتا ہے 6 کلوگرام چینی وہ ایک بنانے کے لئے استعمال کرتا ہے اب اس کے پاس کتنی چینی باقی بچے گی؟

6

18

2

ایک ہوائی جہاز نے کراچی سے اسلام آباد تک دو گھنٹے میں سفر طے کیا اور اسلام آباد سے لاہور تک ڈیڑھ گھنٹے میں سفر طے کیا ہوائی جہاز نے کل کتنے وقت میں سفر طے کیا؟

$3\frac{1}{2}$ گھنٹے

$2\frac{1}{2}$ گھنٹے

$1\frac{1}{2}$ گھنٹے

Identify the place value of numbers up to 6 digit.

نمبر 195 میں 9 کی مقامی قیمت کیا ہوگی؟

90 900 9000

نمبر 3425 میں 4 کی مقامی قیمت کیا ہوگی؟

40 400 4000

نمبر 1024 میں 1 کی مقامی قیمت کیا ہوگی؟

10 100 1000

نمبر 53 میں 5 کی مقامی قیمت کیا ہوگی؟

50 500 5000

نمبر 481 میں 1 کی مقامی قیمت کیا ہوگی؟

1 100 1000

نمبر 1589 میں 8 کی مقامی قیمت کیا ہوگی؟

80 800 8000

نمبر 7561 میں 7 کی مقامی قیمت کیا ہوگی؟

70 700 7000

نمبر 954 میں 4 کی مقامی قیمت کیا ہوگی؟

4 400 4000

نمبر 549 میں 4 کی مقامی قیمت کیا ہوگی؟

40 400 4000

نمبر 12345 میں 5 کی مقامی قیمت کیا ہوگی؟

5 500 5000

نمبر 44531 میں 3 کی مقامی قیمت کیا ہوگی؟

30 300 3000

نمبر 590 میں 5 کی مقامی قیمت کیا ہوگی؟

50 500 5000

نمبر 2453 میں 2 کی مقامی قیمت کیا ہوگی؟

20 200 2000

نمبر 35948 میں 4 کی مقامی قیمت کیا ہوگی؟

40 400 4000

نمبر 1895 میں 1 کی مقامی قیمت کیا ہوگی؟

10 100 1000

نمبر 1675 میں 7 کی مقامی قیمت کیا ہوگی؟

70 700 7000

نمبر 195 میں 1 کی مقامی قیمت کیا ہوگی؟

10 100 1000

نمبر 954 میں 9 کی مقامی قیمت کیا ہوگی؟

90 900 9000

نمبر 453 میں 5 کی مقامی قیمت کیا ہوگی؟

50 500 5000

نمبر 54321 میں 2 کی مقامی قیمت کیا ہوگی؟

20 200 2000

Urdu SLO

شہم معنی الفاظ

2 "ہمت" کا ہم معنی لفظ ہے			1 "عظیم" کا ہم معنی لفظ ہے		
بزدلی	حکمت	جرات	بے حس	بڑا	جامل
4 "گلشن" کا ہم معنی لفظ ہے			3 "فرمت" کا ہم معنی لفظ ہے		
باغ	صحرا	دریا	سیات	فراغت	مصروفیت
6 "مہلت" کا ہم معنی لفظ ہے			5 "عہد" کا ہم معنی لفظ ہے		
قیمت	وقت	عجلت	علم	عمدہ	وعدہ
8 "قوت" کا ہم معنی لفظ ہے			7 "تھوڑی" کا ہم معنی لفظ ہے		
بزدلی	کمزوری	طاقت	بھرپور	کم	زیادہ
10 "عقیدہ" کا ہم معنی لفظ ہے			9 "عمدہ" کا ہم معنی لفظ ہے		
عمدہ	وعدہ	یقین	تایاب	گھٹیا	اعلیٰ
12 "آفتاب" کا ہم معنی لفظ ہے			11 "خن" کا ہم معنی لفظ ہے		
آسمان	سورج	چاند	فقیر	مالدار	غریب

Action Word	Meaning	Action Word	Meaning
Batting	چنگل کرنا	Running	دوڑنا
Laughing	ہنسنا	Sleeping	سونا
Catching	پکڑنا	Walking	چلنا
Helping	مدد کرنا	Singing	گانا
Opening	کھولنا	Eating	کھانا
Closing	بند کرنا	Drinking	پینا
Pushing	دھکیلنا	Smiling	مسکراتا
Pulling	کھینچنا	brushing	برش کرنا
Fighting	لڑنا	polishing	پالش کرنا
Standing	کھڑا ہونا	Talking	بات کرنا
Walking	چلنا	Smelling	سونگھنا
Throwing	پھینکنا	Listening	سننا
Speaking	بولنا	Shouting	چلانا
Praying	دعا کرنا	Reading	پڑھنا
Learning	یاد کرنا	Washings	دھونا
Writing	لکھنا	Jumping	اچھلنا
Driving	گاڑی چلانا	Greeting	کلمے لگانا
Riding	سواری کرنا	Weeping	رونا
Swimming	تیرنا	Playing	کھیلنا
Seeing	دیکھنا	Sitting	بیٹھنا

Comprehension

1. Aslam sees a frog. The frog sees a bug. The frog eats bug.

What does Aslam see?

A bug	Frog	Bugs
-------	------	------

2. It is winter season. The children are wearing warm clothes. The snow is falling.

What is this season?

Snow	Warm	Winter
------	------	--------

3. A fish is swimming in the river. It is blue in colour. Amir is trying to catch the fish.

What is the colour of fish?

Amir	Blue	Red
------	------	-----

4. The bear lives in the Zoo. He plays with flowers. Children love him.

Where does bear live?

Zoo	Bear	Flower
-----	------	--------

5. Farid is a farmer. His axe falls in the river. He is very sad.

How is farmer feeling?

Sad	Freed	Axe
-----	-------	-----

6. I have a cat. She drinks milk. His eyes are blue.

Who drinks milk?

Milk	Blue	Cat
------	------	-----

7. Fatima has a parrot. Its name is Cuckoo. It is green in colour.

What is the name of parrot?

Fatima	Cuckoo	Colour
--------	--------	--------

8. Ali has a new bike His new bike is red. It has a flag on the back.

What is on the back?

Bike	Flag	Red
------	------	-----

9. Taimoor plays cricket. He plays in a park. He likes to bat.

Where does Taimoor play?

Park	Bat	Cricket
------	-----	---------

10. Zeb's favorite fruit is mango. It is yellow in colour. It is sweet in taste

What Zeb's favorite fruit ?

Colour	Yellow	Mango
--------	--------	-------

11. Ayesha is a doctor. She looks after her parents. She works at a hospital in Lahore.

Who is doctor?

Hospital	Lahore	Ayesha
----------	--------	--------

12. Miss Fozia teaches English . She gives story books to her students to read stories

What does she teach her students?

Books	English	Read
-------	---------	------

2- گری + سی			1- چٹی + ز		
گوریسی	گوری	گری	چیز	چیز	چز
4- اع + مال			3- مے + دان		
عالم	املاع	اعمال	مدان	داندان	میدان
6- شا + ہاش			5- یک + کہ		
شاہاش	ہاشاش	شاہاش	کیک	یککہ	یکہ
8- گی + لا			7- نے + ک		
گیلا	گالا	ریگا	نیک	کین	نیک
10- کم + رے			9- قص + ور		
کمر	کام	کمرے	تصور	تصور	تصور
12- چت + ری			11- کم + مل		
چھتری	چت	چھری	کالم	کابل	بکم
14- تق + رب			13- پی + جھے		
تقریب	تھرب	تقرب	پچھے	پاچھ	چھاپے
16- کہ + تا			15- پ + سند		
کینا	کہتا	کاتا	سندپ	پند	پند

Math

طاق اور جفت اعداد کی شناخت کریں

1- دیئے گئے اعداد میں سے طاق عدد کونسا ہے؟	2- دیئے گئے اعداد میں سے جفت عدد کونسا ہے؟
7 8 10	2 5 7
3- دیئے گئے اعداد میں سے طاق عدد کونسا ہے؟	4- دیئے گئے اعداد میں سے جفت عدد کونسا ہے؟
4 9 6	9 5 6
5- دیئے گئے اعداد میں سے طاق عدد کونسا ہے؟	6- دیئے گئے اعداد میں سے جفت عدد کونسا ہے؟
12 17 16	1 8 3
7- دیئے گئے اعداد میں سے طاق عدد کونسا ہے؟	8- دیئے گئے اعداد میں سے جفت عدد کونسا ہے؟
30 33 36	12 15 17
9- دیئے گئے اعداد میں سے طاق عدد کونسا ہے؟	10- دیئے گئے اعداد میں سے جفت عدد کونسا ہے؟
33 34 36	40 43 45
11- دیئے گئے اعداد میں سے طاق عدد کونسا ہے؟	12- دیئے گئے اعداد میں سے جفت عدد کونسا ہے؟
55 56 58	39 37 34
13- دیئے گئے اعداد میں سے طاق عدد کونسا ہے؟	14- دیئے گئے اعداد میں سے جفت عدد کونسا ہے؟
72 75 84	23 28 31
15- دیئے گئے اعداد میں سے طاق عدد کونسا ہے؟	16- دیئے گئے اعداد میں سے جفت عدد کونسا ہے؟
77 78 79	20 25 27

(i) گڑیا کے پاس ایک مرثی اور دو چنڈے ہیں۔ مرثی کا نام کوکو ہے۔ سفید چنڈے کا نام بٹو اور کالے چنڈے کا نام گٹو ہے۔

سفید چنڈے کا کیا نام ہے؟

گٹو کوکو بٹو

(ii) فیضان کو آم بہت پسند ہیں۔ اس نے بازار سے آم خریدے۔ امی نے جوس بنا کر دیا۔

فیضان نے آم کہاں سے خریدے؟

گھر سکول بازار

(iii) ریچہ کے سکول میں 10 کمرے ہیں۔ ایک کھیل کا میدان ہے اور بہت سے درخت ہیں۔

ریچہ کے سکول میں کتنے کمرے ہیں؟

ایک پانچ دس

(iv) عباس کو بریانی پسند ہے۔ اس نے ہوٹل سے بریانی خریدی۔ گھر میں الیٹروٹ لے آئے۔

گھر میں فروٹ کون لے آیا؟

عباس ابو امی

(v) کامران کے ابو کے پاس سفید رنگ کی کار ہے۔ کار بہت خوبصورت ہے۔ کامران کو کار پسند ہے۔

کار کا کیا رنگ ہے؟

خوبصورت کالا سفید

(vi) سلیم اپنے دوست کے ساتھ پارک میں گیا۔ سلیم جھولے کی میر کرے گا جبکہ اس کا دوست ٹرین میں میر کرے گا۔

سلیم کا دوست کہاں میر کرے گا؟

ٹرین میں جھولے میں کشتی میں

(vii) ایک شکاری ہرن کے پیچھے بھاگا۔ ہرن دوڑ کر ایک غار میں چھپ گیا۔ شکاری واپس چلا گیا۔

کون غار میں چھپ گیا؟

ہرن شکاری شیر

(viii) ارم اپنے ماموں کے ساتھ چڑیا گھر گئی۔ وہاں اس نے خوبصورت پرندے دیکھے۔ ارم کو مور پسند آیا۔

ارم کو کونسا پرندہ پسند آیا؟

کبوتر مور چڑیا

(ix) طاہرہ دو مگلاں میں پڑھتی ہے۔ طاہرہ کو کتھیس پسند ہیں۔ جبکہ انکی دوست نازیہ کو کہانیاں پسند ہیں۔

کہانیاں کسے پسند ہیں؟

طاہرہ کو نازیہ کو دونوں کو

(x) گل خان کا گھر وادی میں ہے۔ گل خان کے گھر کے پاس تین عمارتیں ہیں۔ گل خان نے عمارتوں میں مچھلی دیکھی۔

گل خان کے گھر کے پاس کتنی عمارتیں ہیں؟

1 2 3

پوسٹ آفس پاکستان میں آپ کی ڈاک کہاں پر پہنچی ہے اس کی ٹریکنگ کا سسٹم فنکشنل ہے

Result of your query

Article Tracking No : vpp04260934

Booking Office : Lahore

Delivery Office : Multan Road PO

Article Track Detail

August 11, 2022

5:48 AM	Lahore	Received at Lahore DMO
5:48 AM	Lahore	Dispatch from DMO Lahore to delivery office Multan Road PO (BagID:BAG29190729)
4:57 PM	Multan Road PO	Sent out for delivery

August 15, 2022

4:32 PM	Multan Road PO	Sent out for delivery
---------	----------------	-----------------------

August 16, 2022

9:35 AM	Multan Road PO	Sent out for delivery
10:44 PM	Multan Road PO	Delivered at delivery office Multan Road PO to ADDRESSEE

درست جواب کا انتخاب کریں

80 کو 2 پر تقسیم کرنے سے کیا حاصل ہوگا؟			35 کو 7 پر تقسیم کرنے سے کیا حاصل ہوگا؟		
20	30	40	5	7	6
18 کو 6 پر تقسیم کرنے سے کیا حاصل ہوگا؟			45 کو 5 پر تقسیم کرنے سے کیا حاصل ہوگا؟		
6	3	2	9	5	8
40 میں سے 25 نفی کرنے پر کیا بچے گا؟			35 میں سے 15 نفی کرنے پر کیا بچے گا؟		
16	15	17	20	17	15
19 میں سے 3 نفی کرنے پر کیا بچے گا؟			9 میں سے 3 نفی کرنے پر کیا بچے گا؟		
14	16	17	6	5	2
5 کو 4 سے ضرب دینے سے کیا حاصل ہوگا؟			3 کو 6 سے ضرب دینے سے کیا حاصل ہوگا؟		
20	25	30	18	12	24
8 کو 6 سے ضرب دینے سے کیا حاصل ہوگا؟			9 کو 5 سے ضرب دینے پر کیا حاصل ہوگا؟		
40	48	54	40	45	50
20 میں 15 جمع کرنے پر کیا جواب آئےگا؟			40 میں 18 جمع کرنے پر کیا جواب آئےگا؟		
35	20	10	57	58	59
14 میں 15 جمع کرنے پر کیا جواب آئےگا؟			2 میں 12 جمع کرنے پر کیا جواب آئےگا؟		
19	29	39	23	33	43

گاڑ	اڑی	گاڑی	گ۔ا۔ڑی
حادث	حادثہ	حادہ	ح۔ا۔و۔ث۔ہ
ٹرائی	ٹڑائی	ٹریفک	ٹ۔ر۔ے۔ف۔ک
عمی	امی	ام	ا۔م۔م۔ی
معمول	عامل	عمل	م۔ع۔م۔و۔ل
مہبت	مہبت	مہتاب	م۔ح۔ب۔ت
اصیل	اصول	اصل	ا۔ص۔و۔ل
پایل	پاگل	پیدل	پ۔ے۔و۔ل
میز	میرا	ماز	م۔ی۔ز
قوانین	قانونی	قانون	ق۔و۔ا۔ن۔ی۔ن
پیام	پیگم	پیغام	پ۔ے۔غ۔ا۔م
زمین	زمانہ	زمان	ز۔م۔ی۔ن

Math

دی گنی مساواتیں مکمل کریں

$$2 + \square = 4 \quad 5 + \square = 10 \quad 6 + \square = 9$$

2	1	4	4	5	6	2	3	4
---	---	---	---	---	---	---	---	---

$$8 - \square = 4 \quad 10 - \square = 4 \quad 9 - \square = 2$$

3	5	4	7	6	5	7	8	9
---	---	---	---	---	---	---	---	---

$$5 \times \square = 25 \quad 12 \times \square = 36 \quad 7 \times \square = 49$$

4	5	6	3	4	5	6	7	8
---	---	---	---	---	---	---	---	---

$$2 + \square = 8 \quad 3 + \square = 7 \quad 2 + \square = 5$$

4	5	6	4	3	2	1	3	4
---	---	---	---	---	---	---	---	---

$$7 - \square = 2 \quad 8 - \square = 2 \quad 5 - \square = 1$$

3	5	4	5	6	7	4	6	5
---	---	---	---	---	---	---	---	---

$$5 \times \square = 15 \quad 8 \times \square = 40 \quad 6 \times \square = 36$$

4	3	5	6	7	5	6	7	8
---	---	---	---	---	---	---	---	---

$\frac{1}{2}$ کا متراوی کسر ہوگا

$\frac{4}{12}$ $\frac{2}{3}$ $\frac{4}{8}$

$\frac{1}{3}$ کا متراوی کسر ہوگا

$\frac{3}{9}$ $\frac{6}{10}$ $\frac{7}{20}$

$\frac{2}{4}$ کا متراوی کسر ہوگا

$\frac{25}{40}$ $\frac{20}{30}$ $\frac{8}{16}$

$\frac{1}{5}$ کا متراوی کسر ہوگا

$\frac{5}{25}$ $\frac{8}{40}$ $\frac{6}{20}$

$\frac{3}{7}$ کا متراوی کسر ہوگا

$\frac{6}{24}$ $\frac{6}{18}$ $\frac{6}{14}$

$\frac{3}{10}$ کا متراوی کسر ہوگا

$\frac{16}{28}$ $\frac{21}{70}$ $\frac{14}{20}$

$\frac{4}{8}$ کا متراوی کسر ہوگا

$\frac{6}{18}$ $\frac{8}{16}$ $\frac{9}{10}$

$\frac{2}{2}$ کا متراوی کسر ہوگا

$\frac{1}{4}$ $\frac{4}{4}$ $\frac{3}{5}$

$\frac{2}{3}$ کا متراوی کسر ہوگا

$\frac{8}{10}$ $\frac{5}{6}$ $\frac{4}{6}$

$\frac{3}{4}$ کا متراوی کسر ہوگا

$\frac{28}{30}$ $\frac{12}{16}$ $\frac{16}{28}$

$\frac{3}{5}$ کا متراوی کسر ہوگا

$\frac{11}{15}$ $\frac{6}{10}$ $\frac{7}{10}$

$\frac{1}{6}$ کا متراوی کسر ہوگا

$\frac{6}{18}$ $\frac{6}{24}$ $\frac{6}{36}$

$\frac{4}{12}$ کا متراوی کسر ہوگا

$\frac{16}{64}$ $\frac{8}{24}$ $\frac{8}{32}$

$\frac{5}{6}$ کا متراوی کسر ہوگا

$\frac{40}{48}$ $\frac{6}{8}$ $\frac{20}{30}$

$\frac{1}{4}$ کا متراوی کسر ہوگا

$\frac{4}{16}$ $\frac{8}{16}$ $\frac{16}{16}$

$\frac{4}{5}$ کا متراوی کسر ہوگا

$\frac{20}{30}$ $\frac{16}{20}$ $\frac{18}{24}$

$\frac{4}{6}$ کا متراوی کسر ہوگا

$\frac{21}{40}$ $\frac{8}{12}$ $\frac{12}{14}$

$\frac{3}{6}$ کا متراوی کسر ہوگا

$\frac{20}{40}$ $\frac{6}{12}$ $\frac{8}{20}$

$\frac{2}{7}$ کا متراوی کسر ہوگا

$\frac{40}{80}$ $\frac{4}{14}$ $\frac{30}{60}$

$\frac{6}{9}$ کا متراوی کسر ہوگا

$\frac{16}{32}$ $\frac{36}{54}$ $\frac{64}{128}$

$\frac{2}{5}$ کا متراوی کسر ہوگا

$\frac{4}{10}$ $\frac{4}{5}$ $\frac{2}{10}$

(i) ہم پنجاب میں رہتے ہیں۔ پنجاب کا مطلب ہے پانچ دریاؤں کی زمین۔ پنجاب میں پانچ دریا بہتے ہیں۔ پنجاب میں شاعراں فصلیں ہوتی ہیں۔

پنجاب کا کیا مطلب ہے؟

تین دریا

پانچ دریا

چار دریا

(ii) بلوچستان پاکستان کا سب سے بڑا صوبہ ہے۔ بلوچستان میں بہت سے پھل پیدا ہوتے ہیں۔ بلوچستان کا صدر مقام کوئٹہ ہے۔ کوئٹہ میں بہت سے تاجر رہتے ہیں جو تجارت کرتے ہیں۔

بلوچستان کے صدر مقام کا کیا نام ہے؟

لاہور

بلوچستان

کوئٹہ

(iii) آج 14 اگست ہے۔ آج کے دن پاکستان کا تھا۔ اس دن گلیوں، بازاروں اور گھروں میں جشن بیاں لگی ہوئی ہیں۔ ہر جگہ قومی ترانے اور قومی نغمے گونج رہے ہیں۔

ہر جگہ کیا گونج رہے ہیں؟

قومی ترانے اور قومی نغمے

ہاں

گانے

(iv) کرکٹ کی ٹیم میں 11 کھلاڑی ہوتے ہیں۔ تمام کھلاڑی کپتان کی بات مانتے ہیں۔ ہر کھلاڑی محنت کرتا ہے۔ کرکٹ کا بیچ بہت دلچسپ ہے۔ اچھا کھیلنے والا جیت جاتا ہے۔

کرکٹ کی ٹیم میں کتنے کھلاڑی ہوتے ہیں؟

9

11

10

(v) عمر کے ماسوں پانچ سال بعد مگن سے پاکستان واپس آئے تھے۔ عمر اپنے دادا کے ساتھ ماسوں کو لاہور کے ہوائی اڈے سے لینے گیا۔ عمر اور ماسوں گاڑی میں بیٹھے ہی تھے کہ وہ لولا "ماسوں مگن پاکستان سے کتنا دور ہے؟"

عمر کس کے ساتھ ماسوں کو لینے لاہور ایئر پورٹ گیا؟

دادا ابو کے ساتھ

امی کے ساتھ

ابو کے ساتھ

1. What.....you doing?	is	am	are
2. I.....good.	is	am	are
3. I.....happy	is	am	are
4. I.....sad.	is	am	are
5. How.....you?	is	am	are
6. How.....she?	is	am	are
7. What.....you eating.	is	am	are
8. You.....four years old.	is	am	are
9. I.....doctor.	is	am	are
10. He.....in pakistan.	is	am	are
11. They.....on holiday.	is	am	are
12. We.....in pakistan	is	am	are
13. Sana.....in class two.	is	am	are
14. Zain.....a teacher.	is	am	are
15. Ahmed and Ali.....friends.	is	am	are
16. Ahmed.....in class three.	is	am	are
17. You.....a good boy.	is	am	are
18. We.....having fun.	is	am	are
19. He.....stupid.	is	am	are
20. He.....brilliant.	is	am	are
21. Nadia.....my friend	is	am	are
22. Hamza.....working.	is	am	are
23. I.....going.	is	am	are
24. You.....working.	is	am	are
25. They.....going out.	is	am	are
26. She.....having fun.	is	am	are
27. We.....drinking.	is	am	are
28. He.....a lawyer.	is	am	are

Recognize and name unit fraction up to $1/12$

The fraction used to represent the shaded part is



$1/6$

$3/6$

$8/8$

The fraction used to represent the shaded part is



$7/9$

$2/4$

$2/6$

The fraction used to represent the shaded part is



$2/3$

$2/9$

$1/3$

The fraction used to represent the shaded part is



$2/7$

$7/8$

$3/8$

The fraction used to represent the shaded part is



$2/4$

$1/6$

$3/4$

The fraction used to represent the shaded part is



$10/12$

$11/12$

$3/6$

The fraction used to represent the shaded part is



$2/5$

$7/8$

$8/7$

The fraction used to represent the shaded part is



$7/12$

$3/12$

$2/12$

The fraction used to represent the shaded part is



$2/7$

$8/10$

$8/2$

The fraction used to represent the shaded part is




$12/1$

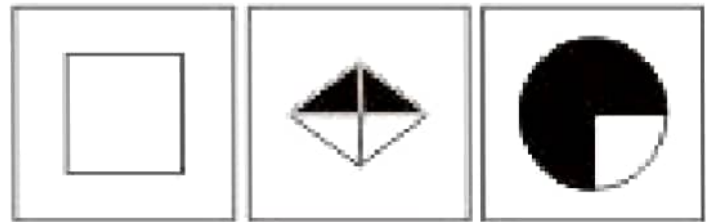
$1/12$

$8/12$

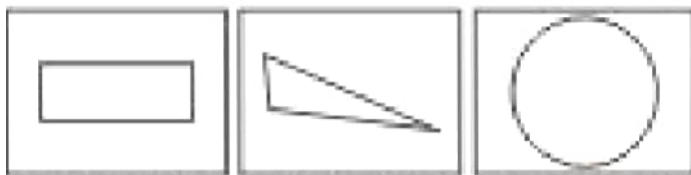
Which of the following shape is a half circle ?



Which of the following shape is a quarter circle ?



Which of the following shape is a triangle ?



Which of the following shape is a quarter circle ?



Which of the following shape is a square ?



Which of the following shape is a rectangle ?



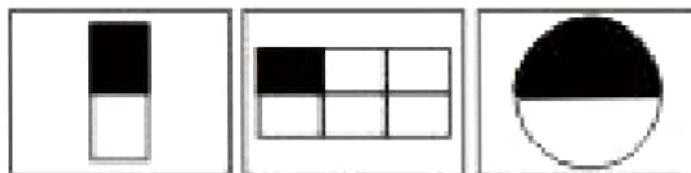
Which of the following shape is a triangle ?



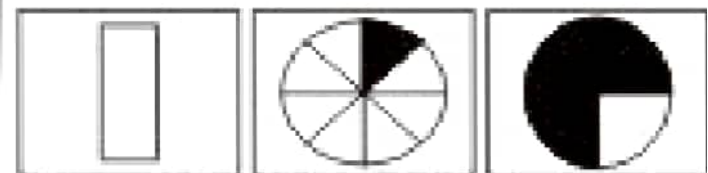
Which of the following shape is a square ?



Which of the following shape is a half circle ?



Which of the following shape is a quarter circle ?



رموز اوقاف

؟	۔	،	آپ نے سکول سے چھٹی کیوں کی
؟	۔	،	میں سکول جاتا ہوں
؟	۔	،	میرے پاس پینسل نوٹ بک اور قلم ہیں
؟	۔	،	کیا آپ کا نام کامران ہے
؟	۔	،	بکری۔ بھینس اور گائے جانور ہیں
؟	۔	،	عائشہ سکول جاتی ہے
؟	۔	،	علامہ اقبال کہاں پیدا ہوئے
؟	۔	،	آپ نے سکول سے چھٹی کیوں کی
؟	۔	،	عمر مچھتی۔ ذہین اور ایماندار ہے
؟	۔	،	اسلم وہی لایا ہے
؟	۔	،	کیا آپ نے دوائی کھائی ہے
؟	۔	،	یہ علی کی کتاب ہے
؟	۔	،	آپ کے پاس کس کی پینسل ہے
؟	۔	،	بارش ہو رہی ہے

I am a teacher.

He will go to zoo.

Present	Past	Future
---------	------	--------

Present	Past	Future
---------	------	--------

They played hockey.

They win match.

Present	Past	Future
---------	------	--------

Present	Past	Future
---------	------	--------

He was a champion.

She works in hospital.

Present	Past	Future
---------	------	--------

Present	Past	Future
---------	------	--------

There is a ball in room.

I will write my name.

Present	Past	Future
---------	------	--------

Present	Past	Future
---------	------	--------

I saw a lion.

She will cook rice.

Present	Past	Future
---------	------	--------

Present	Past	Future
---------	------	--------

Cat ate rat.

He will be coming.

Present	Past	Future
---------	------	--------

Present	Past	Future
---------	------	--------

فعل ماضی	فعل حال
احمد نے کھانا کھایا	احمد کھانا کھاتا ہے
میں نے کہانی لکھی	میں کہانی لکھتا ہوں
سارہ نے پھل خریدے	سارہ پھل خریدتی ہے
استاد صاحب نے ریاضی پڑھائی	استاد صاحب ریاضی پڑھاتے ہیں
میں نے تصویر بنائی	میں تصویر بناتا ہوں
پرندہ اڑا	پرندہ اڑتا ہے
ہم نے ساگرہ منائی	ہم ساگرہ مناتے ہیں
میں نے آم توڑا	میں آم توڑتا ہوں
مالی نے پودا لگایا	مالی پودا لگاتا ہے
حامد نے کار چلائی	حامد کار چلاتا ہے
امی نے چاول پکائے	امی چاول پکاتی ہے
بچوں نے نماز پڑھی	بچے نماز پڑھتے ہیں
بارش ہوئی تھی	بارش ہو رہی ہے
میں سویا تھا	میں سو رہا ہوں

The cat is _____ the table.




Onto

behind

on

The cat is _____ the table.



over

beside

front

The rabbit jumps _____ the box.




in

into

over

The cat is _____ the table.



under

over

in

The baby jumps _____ pool.



behind

in

into

The lunch box is _____ the table.



into

on

front

The lion is _____ the bush.

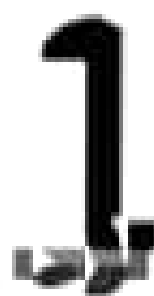


front

under

behind

The boy is _____ the chair.




in

on

over

The dog is in _____ of gate.



front

behind

on

Boy is _____ the table.



in

over

on

محترم اساتذہ کرام اسلام علیکم!

☆ ایل این ڈی ٹیسٹ تین ماہ نہیں لیا گیا اور اب 20 فروری 2023 سے شروع ہو رہا ہے

☆ مکمل اپ ٹو ڈیٹ SLOs کے ساتھ ایل این ڈی بک 2023/24 دستیاب ہے جس کے 80 صفحات ہیں

☆ مہنگائی کے باوجود قیمت صرف 120 روپے ہے جس میں وطن عزیز کے ہر علاقے تک ڈیلیوری بالکل فری ہے

☆ کیش آن ڈیلیوری ہے آپ نے پوسٹ میں کو بکس کی قیمت کے علاوہ صرف 100 روپیہ منی آرڈر فیس دینی ہے

اس کے علاوہ دیگر کسی قسم کے کوئی چارج نہیں ہیں

آپ کے لئے اپنے ادارہ کارز لٹ سو فیصد بنانے اور طلبہ کی Grooming کیلئے اس بک کا انتخاب بہترین فیصلہ ہوگا

آرڈر کے لئے خود تعداد اور مکمل پتہ وٹس ایپ کریں یا قریبی بک سنٹر کے ذریعے آرڈر بک کرائیں

03045495204

پاک ٹیسٹ سسٹم شاہین مارکیٹ ملتان، 38 حبیب سنٹر لاہور

ایل این ڈی بک کی پی ڈی ایف فائل دیکھنے چیک کے لئے بھی وٹس ایپ اسی نمبر پر کریں

اللہ رب العزت پاکستان کو ہمیشہ قائم و دائم رکھے آمین